

УРАВНЕНИЯ И НЕРАВЕНСТВА С МОДУЛЕМ

Простейшее уравнение с модулем $|x - x_0| = a$, где x_0, a – заданные действительные числа, при $a \geq 0$ равносильно, в соответствии с определением модуля действительного числа, каждой из совокупностей

$$\left[\begin{array}{l} x - x_0 = a, \\ x - x_0 \geq 0; \\ -(x - x_0) = a, \\ x - x_0 < 0; \end{array} \right. \Leftrightarrow \left[\begin{array}{l} x - x_0 = a, \\ x - x_0 = -a; \end{array} \right. \Leftrightarrow \left[\begin{array}{l} x = x_0 + a, \\ x = x_0 - a. \end{array} \right.$$

Таким образом, решением уравнения $|x - x_0| = a$ являются два числа $x_1 = x_0 - a$, $x_2 = x_0 + a$, удалённые на одинаковое расстояние от точки x_0 .

Отмеченное свойство решений уравнения $|x - x_0| = a$ подсказывает ещё один способ его решения. Он основан на определении расстояния $\rho(x_1, x_2)$ между двумя точками x_1 и x_2 на числовой прямой. По определению

$$\rho(x_1, x_2) \stackrel{\text{def}}{=} |x_2 - x_1|. \quad (3.7)$$

С учетом этого определения решение уравнения $|x - x_0| = a$ заключается в поиске точек $x \in \mathbf{R}$ таких, что расстояние от каждой из них до точки x_0 равно a , т.е. $\rho(x, x_0) = a$.

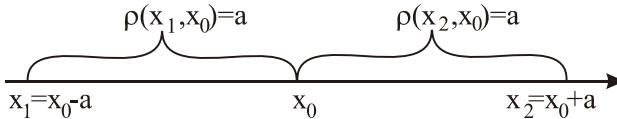


Рис. 3.3

Достаточно очевидно (рис.3.3), что этими точками являются $x_1 = x_0 - a$ и $x_2 = x_0 + a$.

Решим неравенство $|x - x_0| < a$. В соответствии с определением модуля действительного числа имеем

$$|x - x_0| < a \Leftrightarrow \begin{cases} x - x_0 < a, \\ x - x_0 \geq 0; \\ -(x - x_0) < a, \\ x - x_0 < 0; \end{cases} \Leftrightarrow \begin{cases} x - x_0 < a, \\ x - x_0 > -a. \end{cases}$$

Последнюю систему неравенств можно записать в виде двойного неравенства

$$-a < x - x_0 < a \Leftrightarrow x_0 - a < x < x_0 + a.$$

Таким образом, решением неравенства $|x - x_0| < a$ является интервал $(x_0 - a; x_0 + a)$ с центром в точке x_0 и радиусом a .

Графический метод решения неравенства $|x - x_0| < a$ заключается в построении графиков функций

$$y_1 = |x - x_0|, \quad y_2 = a$$

и в выделении множества точек $\{x\}$, в которых $y_1(x) < y_2$ (график функции $y_1(x)$ расположен ниже прямой $y_2 = a$, рис. 3.4).

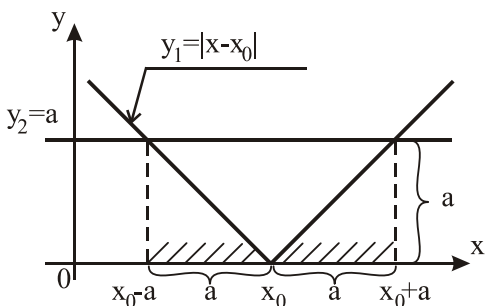


Рис. 3.4

Неравенство $|x - x_0| < a$ можно записать в равносильной форме $\rho(x, x_0) < a$. Решить неравенство $\rho(x, x_0) < a$ — значит найти все точки $\{x\}$, расстояние от каждой из которых до точки

x_0 меньше a . Достаточно очевидно, что этим множеством является интервал $(x_0 - a; x_0 + a)$ (рис.3.5).

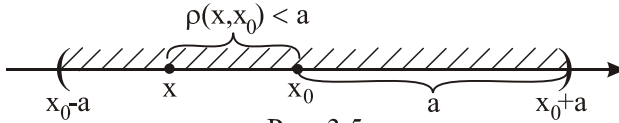


Рис. 3.5

В курсе математического анализа интервал с центром в точке x_0 и радиусом ε называется ε -окрестностью (эпсилон-окрестностью) точки x_0 и обозначается $U(x_0, \varepsilon)$ или $U_\varepsilon(x_0)$, а также $O_\varepsilon(x_0)$:

$$U_\varepsilon(x_0) \stackrel{\text{def}}{=} \{x \mid |x - x_0| < \varepsilon, x \in \mathbf{R}\}.$$

Здесь U – первая буква немецкого слова *umgebung* – окрестность.

Простейшие уравнения и неравенства с модулем и отвечающие им решения:

$$|x - x_0| = a \Leftrightarrow x_1 = x_0 - a, x_2 = x_0 + a;$$

$$|x - x_0| < a \Leftrightarrow -a < x - x_0 < a \Leftrightarrow x \in (x_0 - a; x_0 + a);$$

$$|x - x_0| \leq a \Leftrightarrow -a \leq x - x_0 \leq a \Leftrightarrow x \in [x_0 - a; x_0 + a];$$

$$|x - x_0| > a \Leftrightarrow \begin{cases} x - x_0 > a, \\ x - x_0 < -a; \end{cases} \Leftrightarrow x \in (-\infty; -a) \cup (a; +\infty);$$

$$|x - x_0| \geq a \Leftrightarrow \begin{cases} x - x_0 \geq a, \\ x - x_0 \leq -a; \end{cases} \Leftrightarrow x \in (-\infty; -a] \cup [a; +\infty).$$

Уравнения и неравенства с модулем

Пример 3.9. Решите уравнение

$$|x + 2| + |x - 3| = a$$

для трёх значений параметра a : $a = 3$, $a = 5$ и $a = 7$.

Решение. Способ 1. Аналитический. Нули выражений, находящихся под знаком модуля ($x = -2, x = 3$), разбивают числовую прямую на три промежутка $(-\infty; -2)$, $[-2; 3)$ и $[3; +\infty)$. Рассмотрим уравнение на каждом из этих промежутков:

1) $x < -2$. Тогда $|x + 2| = -x - 2$, $|x - 3| = 3 - x$ и потому получаем $-x - 2 + 3 - x = a \Leftrightarrow x = \frac{1-a}{2}$.

$$a = 3: \quad x = \frac{1-3}{2} = -1, \quad x \notin (-\infty, -2);$$

$$a = 5: \quad x = \frac{1-5}{2} = -2, \quad x \notin (-\infty, -2);$$

$$a = 7: \quad x = \frac{1-7}{2} = -3, \quad x \in (-\infty, -2).$$

Таким образом, на промежутке $(-\infty; -2)$ исходное уравнение имеет решение $x = -3$ только при $a = 7$;

2) $-2 \leq x < 3$. На этом промежутке $|x + 2| = x + 2$, $|x - 3| = 3 - x$ потому

$$x + 2 + 3 - x = a \Leftrightarrow a = 5.$$

Данное неравенство является верным только при $a = 5$.

Поэтому на промежутке $[-2; 3)$ исходное уравнение имеет решение при $a = 5$, причем решением являются все $x \in [-2; 3)$;

3) $x \geq 3$. Здесь $|x + 2| = x + 2$, $|x - 3| = x - 3$ и

$$x + 2 + x - 3 = a \Leftrightarrow x = \frac{a+1}{2};$$

$$a = 3: \quad x = \frac{3+1}{2} = 2, \quad x \notin [3; +\infty);$$

$$a = 5: \quad x = \frac{5+1}{2} = 3, \quad x \in [3; +\infty);$$

$$a = 7: \quad x = \frac{7+1}{2} = 4, \quad x \in [3; +\infty).$$

На рассматриваемом промежутке $[3; +\infty)$ решения имеют уравнения $|x+3|+|x-2|=5$, $x=3$ и $|x+3|+|x-2|=7$, $x=4$.

Объединяя результаты пунктов 1, 2, 3, получаем окончательно ответ.

Ответ: $a = 3: \quad \emptyset$ (нет решения); $a = 5: \quad x \in [-2; 3]$;
 $a = 7: \quad x_1 = -3; x_2 = 4$.

Способ 2. Графический. Введём в рассмотрение функцию $y(x) = |x+2| + |x-3|$ и построим её график. Поскольку $y_1 = x+2$ и $y_2 = x-3$ – линейные функции, то кусочно-линейной будет функция $y(x)$. Поэтому для построения графика этой функции достаточно вычислить её значения в точках «излома» – в нулях подмодульных выражений: $y(-2) = 5$, $y(3) = 5$. При $x < -2$ $y = -2x+1$, т.е. угловой коэффициент $k = -2$, и изменению x на 1 соответствует изменение y на 2 единицы. Поэтому $y(-3) = 5+2 = 7$. Аналогично при $x > 3$: $y = 2x-1$, $k = 2$ и $y(4) = 5+2 = 7$.

График функции $y(x)$ приведён на рис. 3.6. С учётом введённого обозначения исходное уравнение приняло вид $y(x) = a$

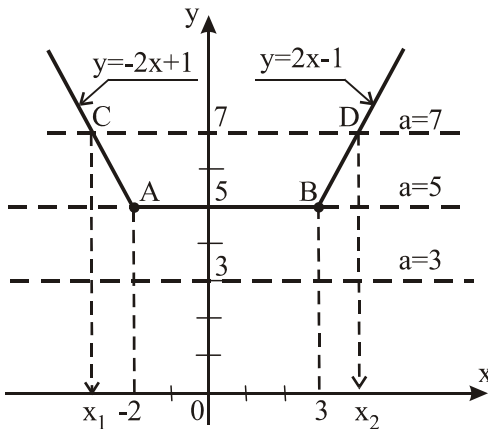


Рис. 3.6

и теперь его решение заключается в нахождении значений x , при которых графики функции $y(x)$ и $y = a$ имеют общие точки. При $a = 3$ графики обеих функций не имеют общих точек, при $a = 5$ они совпа-

дают на отрезке АВ, т.е. для всех $x \in [-2; 3]$, при $a = 7$ – пересекаются в точках $C (x_1 = -3)$ и $D (x_2 = 4)$.

Способ 3. Основан на использовании понятия расстояния между двумя точками на числовой прямой.

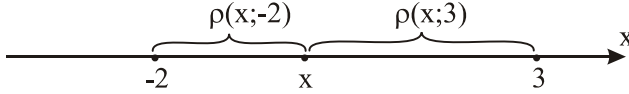


Рис. 3.7

В соответствии с условием задачи необходимо найти такие точки x на числовой прямой, сумма расстояний от каждой из которых (рис. 3.7) до точек (-2) и 3 равна a , т.е.

$$\rho(x; -2) + \rho(x; 3) = a.$$

Из рис. 3.7 следует, что для любой точки x , $x \in [-2; 3]$ $\rho(x; -2) + \rho(x; 3) = 5$, а для любой точки x , $x \in \mathbf{R} \setminus [-2; 3]$ $\rho(x; -2) + \rho(x; 3) > 5$ (рис. 3.8).

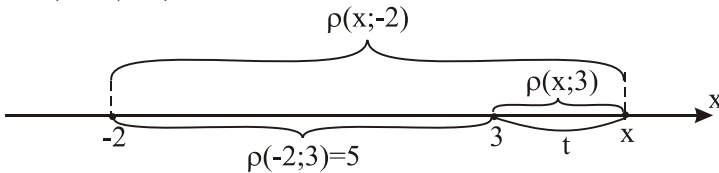


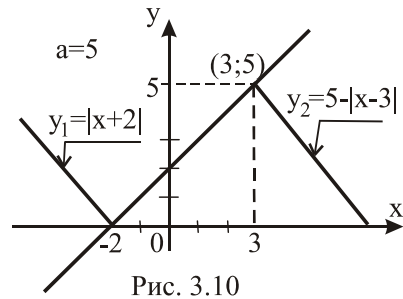
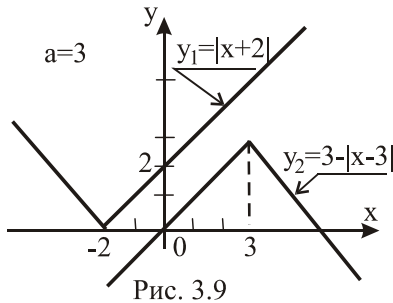
Рис. 3.8

Таким образом, $\forall x \in \mathbf{R} \Rightarrow \rho(x; -2) + \rho(x; 3) \geq 5$. Поэтому уравнение $\rho(x; -2) + \rho(x; 3) = a$ при $a < 5$ и, в частности, при $a = 3$ не имеет решений, при $a = 5$, как уже установлено, решением являются все точки отрезка $[-2; 3]$.

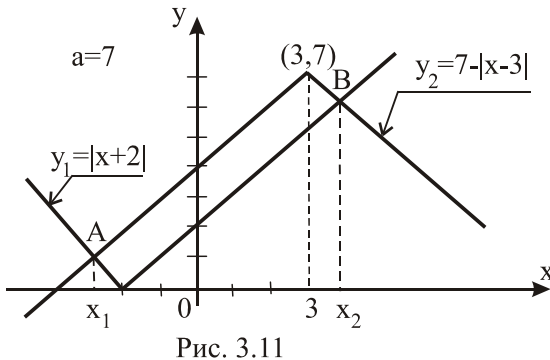
При $a = 7$ уравнению $\rho(x; -2) + \rho(x; 3) = 7$ будут удовлетворять два значения x , расположенные на одинаковом расстоянии от точек $x = 3$ и $x = -2$. Обозначим $\rho(x; 3) = t$ при

$x > 3$ (рис.3.8). Тогда $\rho(x; -2) = \rho(-2; 3) + \rho(x; 3) = 5 + t$ и уравнение примет вид $t + 5 + t = 7$, откуда $t = 1$. Имеем $\rho(x; 3) = 1$ при $x > 3$, т.е. $|x - 3| = x - 3 = 1 \Rightarrow x = 4$. Аналогично находим $\rho(x; -2) = 1$ при $x < -2$ или $|x + 2| = -2 - x = 1 \Rightarrow x = -3$.

Способ 4. Графический. Уравнение $|x + 2| + |x - 3| = a$ можно переписать в равносильной форме $|x + 2| = a - |x - 3|$. Введём в рассмотрение функции $y_1(x) = |x + 2|$ и $y_2(x) = a - |x - 3|$. Построим графики этих функций при $a = 3, 5, 7$ (рис. 3.9, 3.10, 3.11).



Обратим внимание на то, что разноимённые (левые и правые) ветви графиков функций $y_1(x)$ и $y_2(x)$ параллельны.



Из рис. 3.9 следует, что при $a = 3$ графики функций $y_1(x)$ и $y_2(x)$ не имеют общих точек. При $a = 5$ (рис.3.10) они совпадают для

всех $x \in [-2; 3]$. При $a = 7$ графики функций $y_1(x)$ и $y_2(x)$ пересекаются в двух точках А и В с абсциссами x_1 и x_2 соответственно. В точке А пересекаются левые ветви графиков функций $y_1(x)$ и $y_2(x)$, поэтому $|x + 2| = -x - 2$ и $|x - 3| = 3 - x$. Из уравнения $-x - 2 = 7 - (3 - x)$ находим $x_1 = -3$. В точке В пересекаются правые ветви графиков функций $y_1(x)$ и $y_2(x)$, поэтому $|x + 2| = x + 2$ и $|x - 3| = x - 3$. Из уравнения $x + 2 = 7 - (x - 3)$ находим $x_2 = 4$.

Ответ: $a = 3 : \emptyset$; $a = 5 : x \in [-2; 3]$; $a = 7 : x_1 = -3, x_2 = 4$.

Пример 3.10. Найдите площадь множества точек D , все точки $(x; y)$ которого удовлетворяют неравенству

$$|x| + 3|y| \leq 6.$$

Решение. Для всех допустимых x и y ($|x| \leq 6, |y| \leq 2$), $|-x| = |x|$, $|-y| = |y|$. Поэтому искомое множество D является симметричным относительно обеих осей Ox и Oy . Отсюда следует, что достаточно построить часть D_1 этого множества, расположенную, например, в 1-й четверти:

$$D_1 : \begin{cases} x \geq 0, \\ y \geq 0, \\ x + 3y \leq 6, \end{cases}$$

отобразить её симметрично относительно оси Ox (оси Oy), а затем полученное множество D_2 отобразить симметрично относительно оси Oy (оси Ox) из правой (из верхней) полуплоскости в левую (в нижнюю) полуплоскость.

Множества D_1 , D_2 и D приведены на рис. 3.12, 3.13 и 3.14 соответственно.

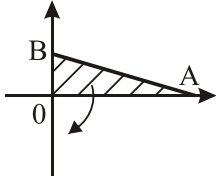


Рис. 3.12

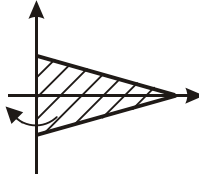


Рис. 3.13

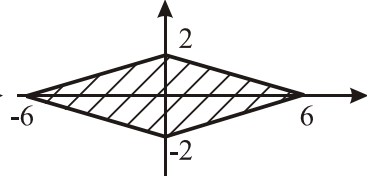


Рис. 3.14

Множество D – ромб с диагоналями $d_1 = 12$ и $d_2 = 4$. По-

этому $S_D = \frac{1}{2} \cdot 12 \cdot 4 = 24$.

Ответ: 24.

Литература

1. Элементарная математика: теория чисел, основы комбинаторики, неравенства: учеб. пособие / А.И. Новиков; Рязан. гос. радиотехн. ун-т. – Рязань, 2010. – 184 с.