

Часть 2. Определенный интеграл

1. Формула Ньютона – Лейбница

Для вычисления определенного интеграла основной является теорема Ньютона – Лейбница: если $f(x)$ непрерывна на $[a, b]$ и $F(x)$ первообразная для $f(x)$ на $[a, b]$, то

$$\int_a^b f(x) dx = F(b) - F(a) = F(x) \Big|_a^b.$$

Примеры:

1.1. Вычислить определенный интеграл $\int_{\frac{\pi}{4}}^{\frac{\pi}{3}} \sec^2 x dx$

$$\blacksquare \int_{\frac{\pi}{4}}^{\frac{\pi}{3}} \operatorname{cosec}^2 x dx = \int_{\frac{\pi}{4}}^{\frac{\pi}{3}} \frac{dx}{\sin^2 x} = -\operatorname{ctg} x \Big|_{\frac{\pi}{4}}^{\frac{\pi}{3}} = -\operatorname{ctg} \frac{\pi}{3} + \operatorname{ctg} \frac{\pi}{4} = -\frac{\sqrt{3}}{3} + 1 = \frac{-\sqrt{3} + 3}{3}. \blacktriangleleft$$

1.2. Вычислить определенный интеграл $\int_0^{\frac{\sqrt{2}}{2}} \frac{dx}{\sqrt{1-x^2}}$

■ Применим табличный интеграл:

$$\int_0^{\frac{\sqrt{2}}{2}} \frac{dx}{\sqrt{1-x^2}} = \arcsin x \Big|_0^{\frac{\sqrt{2}}{2}} = \arcsin \frac{\sqrt{2}}{2} - \arcsin 0 = \frac{\pi}{4} - 0 = \frac{\pi}{4}. \blacktriangleleft$$

1.3. Вычислить определенный интеграл $\int_1^e \left(1 + \frac{1}{x}\right)^2 dx$

$$\blacksquare \int_1^e \left(1 + \frac{1}{x}\right)^2 dx = \int_1^e \left(1 + \frac{2}{x} + \frac{1}{x^2}\right) dx = \left(x + 2 \ln x - \frac{1}{x}\right) \Big|_1^e = e + 2 \ln e - \frac{1}{e} - 1 - 2 \ln 1 + 1 =$$
$$= e + 2 - \frac{1}{e} = \frac{e^2 + 2e - 1}{e}. \blacktriangleleft$$

1.4. Вычислить определенный интеграл $\int_0^{2\pi} \sin^8 x dx$

■ Применяя соотношения между тригонометрическими функциями, получаем

$$\begin{aligned} \int_0^{2\pi} \sin^8 x dx &= \frac{1}{2^4} \int_0^{2\pi} (1 - \cos 2x)^4 dx = \frac{1}{2^4} \int_0^{2\pi} (1 - 4\cos 2x + 6\cos^2 2x - 4\cos^3 2x + \cos^4 2x) dx = \\ &= \frac{1}{2^4} \int_0^{2\pi} \left(1 - 4\cos 2x + 3(1 + \cos 4x) - 4(1 - \sin^2 2x)\cos 2x + \frac{1}{8}(3 + 4\cos 4x + \cos 8x) \right) dx = \\ &= \frac{1}{2^4} \left(\frac{35}{8}x - 2\sin 2x + \frac{7}{8}\sin 4x - 2\left(\sin 2x - \frac{\sin^3 2x}{3} \right) + \frac{1}{64}\sin 8x \right) \Big|_0^{2\pi} = \frac{35}{64}\pi \blacktriangleleft \end{aligned}$$

2. Замена переменного в определенном интеграле

Формула

$$\int_a^b f(x) dx = \int_{\alpha}^{\beta} f[g(t)] g'(t) dt$$

справедлива при следующих условиях:

1. Функция $f(x)$ непрерывна на отрезке $[a, b]$;
2. Отрезок $[a, b]$ является множеством значений функции $x = g(t)$, определенной на отрезке $[\alpha, \beta]$;
3. $g(\alpha) = a$; $g(\beta) = b$.

Примеры:

2.1. Вычислить определенный интеграл $\int_1^e \frac{\ln x}{x} dx$

■ Применим метод интегрирования замены переменной. Пусть $\ln x = t$, тогда

$\frac{dx}{x} = dt$. Найдём новые пределы интегрирования. Если $a = 1$, то $\alpha = \ln 1 = 0$;

если $b = e$, то $\beta = \ln e = 1$. С учётом замены, получаем:

$$\int_1^e \frac{\ln x}{x} dx = \int_0^1 t dt = \frac{t^2}{2} \Big|_0^1 = \frac{1}{2}. \blacktriangleleft$$

2.2. Вычислить определенный интеграл $\int_1^3 x^3 \sqrt{x^2 - 1} dx$.

■ Применим метод интегрирования замены переменной. Пусть $\sqrt{x^2 - 1} = t$.

Тогда $x^2 - 1 = t^2$, $dt = \frac{2x dx}{2\sqrt{x^2 - 1}}$, $x^3 dx = \frac{x dx}{t}$. Найдём новые пределы

интегрирования. Если $a = 1$, то $\alpha = 0$; если $b = 3$, то $\beta = 2\sqrt{2}$.

Тогда интеграл примет вид:

$$\begin{aligned} \int_1^3 x^3 \sqrt{x^2 - 1} dx &= \int_0^{2\sqrt{2}} (t^2 + 1)t^2 dt = \int_0^{2\sqrt{2}} (t^4 + t^2) dt = \left. \frac{t^5}{5} \right|_0^{2\sqrt{2}} + \left. \frac{t^3}{3} \right|_0^{2\sqrt{2}} = \frac{(2\sqrt{2})^5}{5} + \frac{(2\sqrt{2})^3}{3} = \\ &= \frac{464\sqrt{2}}{15}. \blacktriangleleft \end{aligned}$$

2.3. Вычислить определенный интеграл $\int_0^1 \sqrt{1 - x^2} dx$

■ Применим метод интегрирования замены переменной. Пусть $x = \sin t$, тогда $dx = \cos t dt$. Найдём новые пределы интегрирования. Найдём новые пределы

интегрирования. Если $a = 0$, то $\alpha = 0$; если $b = 1$, то $\beta = \frac{\pi}{2}$.

С учётом введения новой переменной первоначальный интеграл примет вид:

$$\begin{aligned} \int_0^1 \sqrt{1 - x^2} dx &= \int_0^{\frac{\pi}{2}} \sqrt{1 - \sin^2 t} \cos t dt = \int_0^{\frac{\pi}{2}} \cos^2 t dt = \int_0^{\frac{\pi}{2}} \frac{1 + 2 \cos 2t}{2} dt = \frac{1}{2} \int_0^{\frac{\pi}{2}} dt + \int_0^{\frac{\pi}{2}} \cos 2t dt = \\ &= \left. \frac{t}{2} \right|_0^{\frac{\pi}{2}} + \left. \sin t \right|_0^{\frac{\pi}{2}} = \frac{\pi}{4} + 1. \blacktriangleleft \end{aligned}$$

2.4. Вычислить определенный интеграл $\int_0^{\ln 2} \frac{e^x \sqrt{e^x - 1}}{e^x + 3} dx$.

■ Применим метод интегрирования замены переменной. Пусть $\sqrt{e^x - 1} = t$, тогда $e^x = t^2 + 1$, $e^x dx = 2t dt$. Найдём новые пределы интегрирования. Если $a = 0$, то $\alpha = 0$; если $b = \ln 2$, то $\beta = 1$.

Тогда исходный интеграл примет вид:

$$\int_0^{\ln 2} \frac{e^x \sqrt{e^x - 1}}{e^x + 3} dx = \int_0^1 \frac{2t^2 dt}{t^2 + 4} = 2 \int_0^1 \frac{(t^2 + 4) - 4}{t^2 + 4} dt = 2 \int_0^1 dt - 8 \int_0^1 \frac{dt}{t^2 + 4} = 2t \Big|_0^1 - \operatorname{arctg} \frac{t}{2} \Big|_0^1 =$$

$$= 2 - 4 \operatorname{arctg} \frac{1}{2}. \blacktriangleleft$$

2.5. Вычислить определенный интеграл: $\int_0^1 \frac{xdx}{\sqrt{x^4 + x^2 + 1}}$

■ Сделаем замену переменных $t = x^2$. Тогда $x = \sqrt{t}$, $dx = \frac{dt}{2\sqrt{t}}$. При этой замене

пределы интегрирования не изменятся. Тогда получим

$$\int_0^1 \frac{xdx}{\sqrt{x^4 + x^2 + 1}} = \frac{1}{2} \int_0^1 \frac{dt}{\sqrt{t^2 + t + 1}} = \frac{1}{2} \int_0^1 \frac{d(t + 0.5)}{\sqrt{(t + 0.5)^2 + 0.75}} = \frac{1}{2} \ln \left| t + 0.5 + \sqrt{(t + 0.5)^2 + 0.75} \right|_0^1$$

$$= \frac{1}{2} \ln(1.5 + \sqrt{3}) - \frac{1}{2} \ln(1.5) \blacktriangleleft$$

2.6. Вычислить определенный интеграл: $\int_0^{\frac{\pi}{2}} \frac{\sin x}{(1 + \sin x)^2} dx$

■ Применим универсальную тригонометрическую подстановку $t = \operatorname{tg} \frac{x}{2}$, тогда

$dx = \frac{2dt}{1+t^2}$, а пределами интегрирования будут $\alpha = 0$ и $\beta = 1$. Получим

$$\int_0^{\frac{\pi}{2}} \frac{\sin x}{(1 + \sin x)^2} dx = \int_0^1 \frac{\frac{2t}{1+t^2} \frac{2dt}{1+t^2}}{\left(1 + \frac{2t}{1+t^2}\right)^2} = \int_0^1 \frac{4t}{(1 + 2t + t^2)^2} dt =$$

$$= \int_0^1 \left(\frac{4}{(t+1)^3} - \frac{4}{(t+1)^4} \right) dt = \left(\frac{-2}{(t+1)^2} + \frac{4}{3(t+1)^3} \right) \Big|_0^1 = \frac{1}{3} \blacktriangleleft$$

2.7. Вычислить определенный интеграл: $\int_{\frac{\pi}{4}}^{\operatorname{arcsin}(\frac{2}{\sqrt{5}})} \frac{(4 \operatorname{tg} x - 5) dx}{4 \cos^2 x - \sin 2x + 1}$

■ Применим тригонометрическую подстановку $t = \operatorname{tg} x$. Тогда $dx = \frac{dt}{1+t^2}$, пределы интегрирования $\alpha = 1$ и $\beta = 2$. Тогда

$$\int_{\frac{\pi}{4}}^{\arcsin\left(\frac{2}{\sqrt{5}}\right)} \frac{(4 \operatorname{tg} x - 5) dx}{4 \cos^2 x - \sin 2x + 1} = \int_1^2 \frac{(4t - 5) \frac{dt}{1+t^2}}{\frac{4}{1+t^2} - \frac{2t}{1+t^2} + 1} =$$

$$\int_1^2 \frac{4t - 5}{t^2 - 2t + 5} dt = \int_1^2 \left(2 \frac{2t - 2}{t^2 - 2t + 5} - \frac{1}{(t-1)^2 + 4} \right) dt = \left(2 \ln |t^2 - 2t + 5| - \frac{1}{2} \operatorname{arctg} \frac{t-1}{2} \right) \Big|_1^2 =$$

$$= 2 \ln \frac{5}{4} - \frac{1}{2} \operatorname{arctg} \frac{1}{2}. \blacktriangleleft$$

3. Формула интегрирования по частям

Если каждая из функций $u(x)$ и $v(x)$ имеет на отрезке $[a, b]$ непрерывную производную, то справедлива следующая формула

$$\int_a^b u(x) dv(x) = u(x)v(x) \Big|_a^b - \int_a^b v(x) du(x).$$

Примеры:

3.1. Вычислить определенный интеграл: $\int_{-\frac{\pi}{2}}^{\frac{\pi}{2}} e^x \cos x dx$.

■ Так как подынтегральная функция чётная, то исходный интеграл примет вид:

$$\int_{-\frac{\pi}{2}}^{\frac{\pi}{2}} e^x \cos x dx = 2 \int_0^{\frac{\pi}{2}} e^x \cos x dx.$$

Применим метод интегрирования по частям:

$$\int_a^b u dv = uv \Big|_a^b - \int_a^b v du.$$

Пусть $u = \cos x$; $dv = e^x$; тогда $du = -\sin x dx$; $v = e^x$.

Тогда первоначальный интеграл примет вид:

$$\int_{-\frac{\pi}{2}}^{\frac{\pi}{2}} e^x \cos x dx = 2 \int_0^{\frac{\pi}{2}} e^x \cos x dx = 2e^x \cos x \Big|_0^{\frac{\pi}{2}} + 2 \int_0^{\frac{\pi}{2}} e^x \sin x dx.$$

Применим ещё раз метод интегрирования по частям:

Пусть $u = \sin x$; $dv = e^x$; тогда $du = \cos x dx$; $v = e^x$. Получаем:

$$\begin{aligned} \int_{-\frac{\pi}{2}}^{\frac{\pi}{2}} e^x \cos x dx &= 2 \int_0^{\frac{\pi}{2}} e^x \cos x dx = 2e^x \cos x \Big|_0^{\frac{\pi}{2}} + 2 \int_0^{\frac{\pi}{2}} e^x \sin x dx = \\ &= -2e^x \sin x \Big|_0^{\frac{\pi}{2}} + 2e^x \sin x \Big|_0^{\frac{\pi}{2}} - 2 \int_0^{\frac{\pi}{2}} e^x \cos x dx = -2 + 2e^{\frac{\pi}{2}} - 2 \int_0^{\frac{\pi}{2}} e^x \cos x dx. \end{aligned}$$

Получили равенство:

$$2 \int_0^{\frac{\pi}{2}} e^x \cos x dx = -2 + 2e^{\frac{\pi}{2}} - 2 \int_0^{\frac{\pi}{2}} e^x \cos x dx.$$

Тогда:

$$4 \int_0^{\frac{\pi}{2}} e^x \cos x dx = 2 \left(e^{\frac{\pi}{2}} - 1 \right).$$

Откуда:

$$\int_0^{\frac{\pi}{2}} e^x \cos x dx = \frac{e^{\frac{\pi}{2}} - 1}{2}. \blacktriangleleft$$

3.2. Вычислить определенный интеграл: $\int_1^2 (x+1) \ln|x| dx$.

■ Применим метод интегрирования по частям. Пусть $u = \ln|x|$; $dv = x+1$.

Тогда $du = \frac{1}{x}$; $v = \frac{x^2}{2} + x$.

Первоначальный интеграл примет вид:

$$\int_1^2 (x+1) \ln|x| dx = \left(\frac{x^2}{2} + x \right) \ln|x| \Big|_1^2 - \int_1^2 \left(\frac{x^2}{2} + x \right) \frac{dx}{x} = \left(\frac{x^2}{2} + x \right) \ln|x| \Big|_1^2 - \int_1^2 \left(\frac{x}{2} + 1 \right) dx =$$

$$= \left(\frac{x^2}{2} + x \right) \ln|x| \Big|_1^2 - \frac{x^2}{4} \Big|_1^2 - x \Big|_1^2 = 4 \ln 2 - 0 - 1 + \frac{1}{4} - 2 + 1 = \ln 2^4 - \frac{7}{4} = \ln 16 - \frac{7}{4}. \blacktriangleleft$$

3.3. Вычислить определенный интеграл: $\int_0^1 \arcsin \sqrt{\frac{x}{1+x}} dx$

■ Применим метод интегрирования по частям. Пусть

$$u = \arcsin \sqrt{\frac{x}{1+x}}; \quad dv = dx.$$

Тогда

$$du = \frac{1+x-x}{2\sqrt{1-\frac{x}{1+x}}\sqrt{\frac{x}{1+x}}(1+x)^2} dx = \frac{dx}{2\sqrt{x}(1+x)}, \quad v = x.$$

Первоначальный интеграл примет вид:

$$\begin{aligned} \int_0^1 \arcsin \sqrt{\frac{x}{1+x}} dx &= x \arcsin \sqrt{\frac{x}{1+x}} \Big|_0^1 - \frac{1}{2} \int_0^1 \frac{x}{\sqrt{x}(1+x)} dx = \\ &= -3 \arcsin \frac{1}{\sqrt{2}} - \int_0^1 \frac{(\sqrt{x})^2}{1+(\sqrt{x})^2} d\sqrt{x} = \frac{3\pi}{4} - \int_0^1 \frac{(\sqrt{x})^2 + 1 - 1}{1+(\sqrt{x})^2} dx = \\ &= \frac{3\pi}{4} - \int_0^1 \left(1 - \frac{1}{1+(\sqrt{x})^2} \right) d(\sqrt{x}) = \frac{3\pi}{4} - (\sqrt{x} - \operatorname{arctg} \sqrt{x}) \Big|_0^1 = \frac{3\pi}{4} - 1 + \operatorname{arctg} 1 = \\ &= \frac{3\pi}{4} - 1 + \frac{\pi}{4} = \pi - 1. \blacktriangleleft \end{aligned}$$

3.4. Вычислить определенный интеграл: $\int_0^1 e^{-2x} (4x - 3) dx$

■ Применим метод интегрирования по частям. Пусть

$$u = 4x - 3; \quad dv = e^{-2x}.$$

Тогда

$$du = 4dx \quad v = -\frac{1}{2} e^{-2x} dx.$$

Получим:

$$\int_0^1 e^{-2x}(4x-3)dx = -\frac{1}{2}(4x-3)e^{-2x}\Big|_0^1 + 4\int_0^1 e^{-2x}dx = -\frac{1}{2}(4x-3)e^{-2x}\Big|_0^1 - e^{-2x} =$$

$$= -\frac{1}{2e^2} - \frac{3}{2} - \frac{1}{e^2} + 1 = -\frac{3}{2e^2} - \frac{1}{2} = \frac{-3-e^2}{2e^2}. \blacktriangleleft$$

3.5. Вычислить определенный интеграл: $\int_{\frac{\pi}{6}}^{\frac{\pi}{2}} \frac{x + \sin x}{1 - \cos x} dx$

■ Подынтегральная функция нечётная относительно синуса и косинуса.

Применим универсальную тригонометрическую подстановку:

$$\operatorname{tg} \frac{x}{2} = t; \quad x = 2 \operatorname{arctg} t; \quad dx = \frac{2dt}{1+t^2}; \quad \sin x = \frac{2t}{1+t^2}; \quad \cos x = \frac{1-t^2}{1+t^2};$$

Пределы интегрирования:

$$a = \frac{\pi}{6}; \quad \alpha = \operatorname{tg} \frac{\pi}{12}; \quad b = \frac{\pi}{2}; \quad \beta = 1.$$

С учётом подстановки первоначальный интеграл примет вид:

$$\int_{\frac{\pi}{6}}^{\frac{\pi}{2}} \frac{x + \sin x}{1 - \cos x} dx = \int_{\operatorname{tg} \frac{\pi}{12}}^1 \frac{2 \operatorname{arctg} t + 2t/(1+t^2)}{1 + (1-t^2)/(1+t^2)} \frac{2dt}{1+t^2} = 2 \int_{\operatorname{tg} \frac{\pi}{12}}^1 \operatorname{arctg} t dt + 2 \int_{\operatorname{tg} \frac{\pi}{12}}^1 \frac{t dt}{1+t^2}.$$

Теперь применим метод интегрирования по частям.

Пусть

$$u = \operatorname{arctg} t; \quad dv = dt.$$

Тогда

$$du = \frac{dt}{1+t^2}; \quad v = t.$$

Получим:

$$\int_{\frac{\pi}{6}}^{\frac{\pi}{2}} \frac{x + \sin x}{1 - \cos x} dx = \int_{\operatorname{tg} \frac{\pi}{12}}^1 \frac{2 \operatorname{arctg} t + 2t/(1+t^2)}{1 + (1-t^2)/(1+t^2)} \frac{2dt}{1+t^2} = 2 \int_{\operatorname{tg} \frac{\pi}{12}}^1 \operatorname{arctg} t dt + 2 \int_{\operatorname{tg} \frac{\pi}{12}}^1 \frac{t dt}{1+t^2} =$$

$$= 2t \operatorname{arctg} t \Big|_{\operatorname{tg} \frac{\pi}{12}}^1 - 2 \int_{\operatorname{tg} \frac{\pi}{12}}^1 \frac{t dt}{1+t^2} + 2 \int_{\operatorname{tg} \frac{\pi}{12}}^1 \frac{t dt}{1+t^2} =$$

$$= 2 \operatorname{arctg} 1 - 2 \operatorname{tg} \frac{\pi}{12} \operatorname{arctg} \left(\operatorname{tg} \frac{\pi}{12} \right) - 2 \cdot \frac{\pi}{4} - 2 \cdot \frac{\pi}{12} \operatorname{tg} \frac{\pi}{12} = \frac{\pi}{6} \left(3 - \operatorname{tg} \frac{\pi}{12} \right). \blacktriangleleft$$

4. Среднее значение функции

Пусть $f(x)$ интегрируема и ограничена на $[a, b]$ и $M = \sup_{x \in [a, b]} f(x)$,

$m = \inf_{x \in [a, b]} f(x)$ — соответственно, верхняя и нижняя грани $f(x)$ на отрезке

$[a, b]$. Тогда, существует такое число μ , что: $m \leq \mu \leq M$ и $\int_a^b f(x) dx = \mu(b-a)$.

Число

$$\mu = \frac{\int_a^b f(x) dx}{(b-a)}$$

называется средним значением функции $f(x)$ на отрезке $[a, b]$.

Примеры:

4.1. Вычислить среднее значение функции $y = \sqrt{x} + x^2$ на отрезке $[0, 4]$.

■ По формуле среднего значения функции на интервале, получаем

$$\mu = \frac{\int_a^b f(x) dx}{(b-a)} = \frac{\int_0^4 (\sqrt{x} + x^2) dx}{4} = \frac{1}{4} \left(\frac{3}{2} x^{2/3} + \frac{x^3}{3} \right) \Big|_0^4 = \frac{20}{3}. \blacktriangleleft$$

4.2. Вычислить среднее значение функции $y = \sin^2 x$ на отрезке $\left[0, \frac{\pi}{4}\right]$.

■ По формуле среднего значения функции на интервале, получаем

$$\mu = \frac{\int_a^b f(x) dx}{(b-a)} = \frac{4 \int_0^{\pi/4} \sin^2 x dx}{\pi} = \frac{4}{\pi} \left(\frac{x}{2} - \frac{\sin x \cos x}{2} \right) \Big|_0^{\pi/4} = \frac{\pi - 2}{2\pi}. \blacktriangleleft$$

4.3. Вычислить среднее значение функции $y = \frac{x}{e^x - 1}$ на отрезке $[1, 2]$.

■ По формуле среднего значения функции на интервале, получаем

$$\mu = \frac{\int_a^b f(x) dx}{(b-a)} = \int_1^2 \frac{x}{e^x - 1} dx = \left(\ln(e^x - 1) \right) \Big|_1^2 = \ln \left(\frac{e^2 - 1}{e - 1} \right). \blacktriangleleft$$

5. Несобственные интегралы

Интегралы с бесконечными пределами

Если $f(x)$ непрерывна на интервале $[a, +\infty)$, то интеграл

$$\int_a^{+\infty} f(x) dx = \lim_{b \rightarrow +\infty} \int_a^b f(x) dx$$

называется несобственным интегралом от $f(x)$. Если предел существует и конечен, интеграл называется сходящимся, если нет, то расходящимся. Если $f(x) \sim \frac{A}{x^\alpha}$ при $x \rightarrow +\infty$, то при $\alpha > 1$ интеграл сходится, при $\alpha \leq 1$ интеграл расходится.

Отметим важные примеры несобственных интегралов:

$$\int_0^{+\infty} e^{-x^2} dx = \frac{\sqrt{\pi}}{2} \text{ - интеграл Пуассона,}$$

$$\int_0^{+\infty} \frac{\sin x}{x} dx = \frac{\pi}{2} \text{ - интеграл Дирихле,}$$

$$B(x, y) = \int_0^{+\infty} \frac{t^{x-1}}{(1+t)^{x+y}} dt \text{ - Бета-функция (эйлеров интеграл 1 рода),}$$

$$\Gamma(x) = \int_0^{+\infty} e^{-t} t^{x-1} dt \text{ - Гамма-функция (эйлеров интеграл 2 рода).}$$

Примеры:

5.1. Вычислить интеграл $\int_1^{\infty} \frac{dx}{x^5}$

■ Найдём $\lim_{b \rightarrow \infty} \int_1^b \frac{dx}{x^5} = \lim_{b \rightarrow \infty} \left(-\frac{1}{x^4} \right) \Big|_1^b = \lim_{b \rightarrow \infty} \left(-\frac{1}{b^4} + 1 \right) = 1.$

Предел существует и конечен. Значит, интеграл сходится. \blacktriangleleft

5.2. Вычислить интеграл $\int_{\frac{\pi}{4}}^{+\infty} \operatorname{tg} x dx$

■ Найдём $\lim_{b \rightarrow \infty} \int_0^b \operatorname{tg} x = -\lim_{b \rightarrow \infty} \left(\ln \cos x \Big|_0^b \right) = -\lim_{b \rightarrow \infty} (\ln \cos b - \ln 1) = -\lim_{b \rightarrow \infty} \ln \cos b$.

Предел не существует. Несобственный интеграл расходится. ◀

5.3. Вычислить интеграл $\int_{-\infty}^{+\infty} \frac{dx}{x^2 + 16}$.

■ Подынтегральная функция чётная, поэтому

$$\int_{-\infty}^{+\infty} \frac{dx}{x^2 + 16} = 2 \int_0^{+\infty} \frac{dx}{x^2 + 16}.$$

Вычислим интеграл:

$$\int_0^{+\infty} \frac{dx}{x^2 + 16} = \lim_{b \rightarrow +\infty} \int_0^b \frac{dx}{x^2 + 16} = \lim_{b \rightarrow +\infty} \frac{1}{4} \operatorname{arctg} \frac{x}{4} \Big|_0^b = \frac{1}{4} \lim_{b \rightarrow +\infty} \left(\operatorname{arctg} \frac{b}{4} - \operatorname{arctg} 0 \right) = \frac{\pi}{8}.$$

Получили $\int_{-\infty}^{+\infty} \frac{dx}{x^2 + 16} = \frac{\pi}{4}$. Интеграл сходится. ◀

5.3 Доказать расходимость интеграла $\int_1^{+\infty} \frac{x+2}{\sqrt[3]{x^2}} dx$.

■ Так как при $x > 1$, $\frac{x+2}{\sqrt[3]{x^2}} > \frac{1}{\sqrt[3]{x^2}} > 0$, то вычисляя интеграл

$$\int_1^{+\infty} \frac{dx}{\sqrt[3]{x^2}} = \lim_{b \rightarrow +\infty} 3x^{\frac{1}{3}} \Big|_1^b = 3 \lim_{b \rightarrow +\infty} \left(b^{\frac{1}{3}} - 3 \right) = +\infty.$$

Этот интеграл расходится. Следовательно, по признаку сравнения исходный

интеграл $\int_1^{+\infty} \frac{x+2}{\sqrt[3]{x^2}} dx$ тоже расходится. ◀

Интегралы от функций с бесконечными разрывами

Если $f(x)$ непрерывна на $[a, b)$ и неограниченна в любой окрестности точки b , то интеграл

$$\int_a^b f(x) dx = \lim_{c \rightarrow b-0} \int_a^c f(x) dx$$

называется несобственным интегралом от $f(x)$. Если предел существует и конечен, интеграл называется сходящимся, если нет, то расходящимся. Если

$f(x) \sim \frac{A}{(x-b)^\alpha}$ при $x \rightarrow b$, то при $\alpha < 1$ интеграл сходится, при $\alpha \geq 1$ интеграл

расходится.

Примеры:

5.4. Исследовать на сходимость интеграл $\int_1^2 \frac{dx}{x-1}$.

■ Так как подынтегральная функция $f(x) = \frac{1}{x-1}$ терпит разрыв в точке $x=1$, то

получим:

$$\int_1^2 \frac{dx}{x-1} = \lim_{a \rightarrow 1} \int_a^2 \frac{dx}{x-1} = \lim_{a \rightarrow 1} \ln|x-1| \Big|_a^2 = \lim_{a \rightarrow 1} (\ln 1 - \ln|a-1|) = \lim_{a \rightarrow 1} \ln \frac{1}{|a-1|} = \infty$$

Конечного предела не существует, значит, интеграл расходится. ◀

5.5. Исследовать на сходимость интеграл $\int_{-3}^1 \frac{dx}{x+3}$

■ Так как подынтегральная функция $f(x) = \frac{1}{x+3}$ терпит разрыв в точке $x=-3$,

то получим:

$$\lim_{a \rightarrow -3} \int_a^1 \frac{dx}{x+3} = \lim_{a \rightarrow -3} \ln|x+3| \Big|_a^1 = \lim_{a \rightarrow -3} (\ln 4 - \ln|a+3|) = \lim_{a \rightarrow -3} \ln \frac{4}{|a+3|} = \infty.$$

Конечный предел равен бесконечности. Значит, интеграл расходится. ◀

5.6. Исследовать на сходимость интеграл $\int_0^1 \ln x dx$

■ Так как подынтегральная функция $f(x) = \ln x$ терпит разрыв в точке $x=0$,

получим:

$$\int_0^1 \ln x dx = \lim_{a \rightarrow 0} \int_a^1 \ln x dx.$$

Применим интегрирование по частям. Пусть $u = \ln x$; $dv = dx$; Тогда

$$du = \frac{dx}{x}; \quad v = x.$$

И первоначальный интеграл примет вид:

$$\int_0^1 \ln x dx = \lim_{a \rightarrow 0} \int_a^1 \ln x dx = \lim_{a \rightarrow 0} \left(x \ln x \Big|_a^1 - \int_a^1 dx \right) = -1.$$

Предел конечен. Поэтому интеграл сходится. ◀

5.7. Исследовать на сходимость интеграл $\int_1^2 \frac{dx}{x-1}$

■ Имеем $\lim_{a \rightarrow -\infty} \int_a^0 \frac{x dx}{x^2 + 1} = \lim_{a \rightarrow -\infty} \frac{1}{2} \int_a^0 \frac{d(x^2 + 1)}{x^2 + 1} = \frac{1}{2} \lim_{a \rightarrow -\infty} \ln(x^2 + 1) \Big|_a^0 = -\infty.$

Предел бесконечен. Следовательно, интеграл расходится. ◀

6. Геометрические и физические приложения определенного интеграла

6.1. Вычисление площади криволинейной трапеции

Площадь плоской области D стандартной относительно оси Ox , ограниченной прямыми $x = a$ и $x = b$ и кривыми $y = f_1(x)$, $y = f_2(x)$ такими, что для любых $a \leq x \leq b$ выполнено $f_1(x) \leq y \leq f_2(x)$

(т.е. $D = \{(x, y) : a \leq x \leq b, f_1(x) \leq y \leq f_2(x)\}$) вычисляется

$$S = \int_a^b [f_2(x) - f_1(x)] dx.$$

Аналогично площадь плоской области стандартной относительно оси Oy , ограниченной прямыми $y = c$ и $y = d$ и кривыми $x = g_1(y)$, $x = g_2(y)$ такими, что для любых $c \leq y \leq d$ выполнено $g_1(y) \leq x \leq g_2(y)$

(т.е. $D = \{(x, y) : c \leq y \leq d, g_1(y) \leq x \leq g_2(y)\}$) вычисляется

$$S = \int_c^d [g_2(y) - g_1(y)] dy.$$

Если область D ограничена непрерывной замкнутой кривой, заданной параметрически

$$\Gamma : x = x(t), y = y(t), t \in [T_0, T_1], x(T_0) = x(T_1), y(T_0) = y(T_1),$$

то её площадь можно вычислить по одной из трёх формул

$$S = - \int_{T_0}^{T_1} y(t)x'(t) dt,$$

$$S = \int_{T_0}^{T_1} x(t)y'(t) dt,$$

$$S = \frac{1}{2} \int_{T_0}^{T_1} [x(t)y'(t) - x'(t)y(t)] dt.$$

Какую из них удобнее применять, зависит от конкретного вида функций $x = x(t)$ и $y = y(t)$.

Площадь области D :

$$D = \{(r, \varphi) : \varphi_0 \leq \varphi \leq \varphi_1, 0 \leq r \leq r(\varphi)\},$$

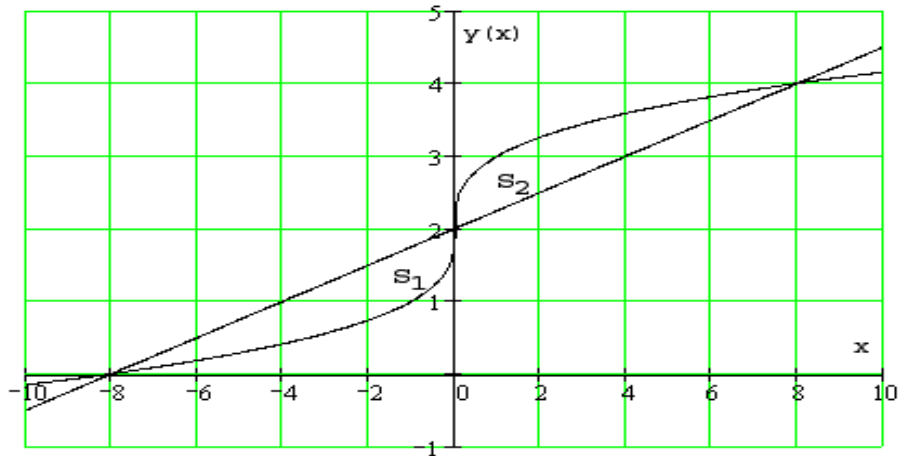
называемой криволинейным сектором, ограниченной графиком $r(\varphi)$ и двумя лучами, составляющими с полярной осью углы φ_0 и φ_1 имеет площадь

$$S = \frac{1}{2} \int_{\varphi_0}^{\varphi_1} [r(\varphi)]^2 d\varphi.$$

Примеры:

6.1.1. Вычислить площадь области, ограниченной линиями: $x = (y - 2)^3$ и $x = 4y - 8$.

■ Изобразим фигуру в декартовой системе координат:



Из условия симметрии фигуры относительно точки с координатами $(0, 2)$, площади S_1 и S_2 равны. Так как данная область является стандартной как относительно оси Ox так и относительно оси Oy , то ее площадь можно вычислить одним из двух способов.

1) Выразим зависимости в явном виде:

$$x = (y - 2)^3 \Leftrightarrow y = \sqrt[3]{x} + 2 \quad \text{и} \quad x = 4y - 8 \Leftrightarrow y = \frac{x}{4} + 2,$$

а стандартная относительно оси Ox область

$$D = \left\{ (x, y) : 0 \leq x \leq 8, \frac{x}{4} + 2 \leq y \leq \sqrt[3]{x} + 2 \right\}.$$

Тогда получаем

$$S = 2 \int_0^8 \left[(\sqrt[3]{x} + 2) - \left(\frac{x}{4} + 2 \right) \right] dx = 2 \left(\frac{3}{4} x^{\frac{4}{3}} - \frac{x^2}{8} \right) \Big|_0^8 = 8.$$

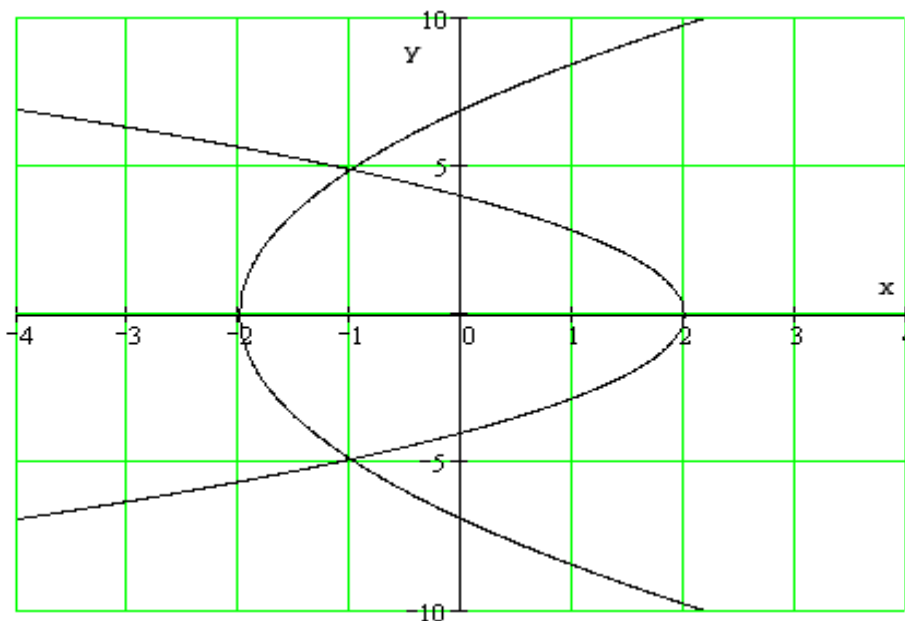
2) Заметим, что для вычисления площади можно было воспользоваться исходным видом зависимостей:

$$D = \left\{ (x, y) : 2 \leq y \leq 4, (y - 2)^3 \leq x \leq 4y - 8 \right\}$$

$$S = 2 \int_2^4 \left[(4y - 8) - (y - 2)^3 \right] dy = 2 \left(2y^2 - 8y - \frac{1}{4}(y - 2)^4 \right) \Big|_2^4 = 8. \blacktriangleleft$$

6.1.2. Вычислить площадь области, ограниченной параболой $y^2 + 8x = 16$ и $y^2 - 24x = 48$.

■ Изобразим фигуру в декартовой системе координат



Очевидно, область симметрична относительно оси Ox , кроме того, она не является стандартной относительно оси Ox и стандартной относительно оси Oy , а ее площадь можно вычислить одним из двух способов.

1) Данная область не является стандартной относительно оси Ox . Её можно разбить на две стандартные относительно оси Ox области:

$$D_1 = \{(x, y) : -2 \leq x \leq -1, -\sqrt{48 + 24x} \leq y \leq \sqrt{48 + 24x}\},$$

$$D_2 = \{(x, y) : -1 \leq x \leq 2, -\sqrt{16 - 8x} \leq y \leq \sqrt{16 + 8x}\}.$$

Из симметрии областей D_1 и D_2 относительно оси Ox следует, что

$$\begin{aligned} S &= 2 \left\{ \int_{-2}^{-1} \sqrt{48 + 24x} dx + \int_{-1}^2 \sqrt{16 - 8x} dx \right\} = \\ &= 2 \left\{ \frac{1}{36} (48 + 24x)^{\frac{3}{2}} \Big|_{-2}^{-1} + \frac{-1}{12} (16 - 8x)^{\frac{3}{2}} \Big|_{-1}^2 \right\} = \frac{32\sqrt{6}}{3}. \end{aligned}$$

2) Относительно оси Oy данная область является стандартной:

$$D = \left\{ (x, y) : -\sqrt{24} \leq y \leq \sqrt{24}, \frac{y^2 - 48}{24} \leq x \leq \frac{16 - y^2}{8} \right\}.$$

Снова, используя симметрию области, получаем

$$S = 2 \int_0^{\sqrt{24}} \left(\frac{16 - y^2}{8} - \frac{y^2 - 48}{24} \right) dy = 2 \int_0^{\sqrt{24}} \left(4 - \frac{y^2}{6} \right) dy = 2 \left(4y - \frac{y^3}{18} \right) \Big|_0^{\sqrt{24}} = \frac{32\sqrt{6}}{3}. \blacktriangleleft$$

6.1.3. Вычислить площадь эллипса, заданного уравнением $\frac{x^2}{a^2} + \frac{y^2}{b^2} = 1$ ($x = a \cos t$, $y = b \sin t$).

■ Искомую площадь можно вычислить, используя как явное представление линии, так и параметрическое.

1) Выразив уравнение в явном виде

$$\frac{x^2}{a^2} + \frac{y^2}{b^2} = 1 \Leftrightarrow y = \pm \frac{b}{a} \sqrt{a^2 - x^2},$$

получим, применив подстановку $x = a \cos t$, $dx = -a \sin t dt$, приходим к

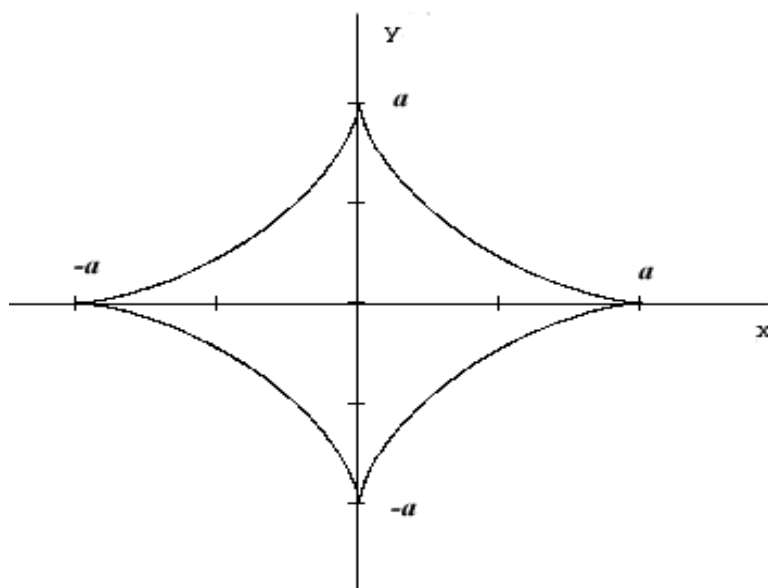
$$S = 4 \frac{b}{a} \int_0^a \sqrt{a^2 - x^2} dx = -4 \frac{b}{a} \int_0^{\frac{\pi}{2}} \sqrt{a^2 - a^2 \cos^2 t} \sin t dt = 2ab \int_0^{\frac{\pi}{2}} \sin^2 t dt = \pi ab.$$

2) С другой стороны, используя параметрическое представление $x = a \cos t$, $y = b \sin t$ при изменении параметра t в пределах от 0 до $\frac{\pi}{2}$, получаем:

$$S = - \int_{T_0}^{T_1} y(t) x'(t) dt = 2ab \int_0^{\frac{\pi}{2}} \sin^2 t dt = \pi ab. \blacktriangleleft$$

6.1.4. Вычислить площадь астроида, заданной уравнением $x^{2/3} + y^{2/3} = a^{2/3}$ ($x = a \cos^3 t$, $y = a \sin^3 t$)

■ Изобразим кривую в декартовых координатах:



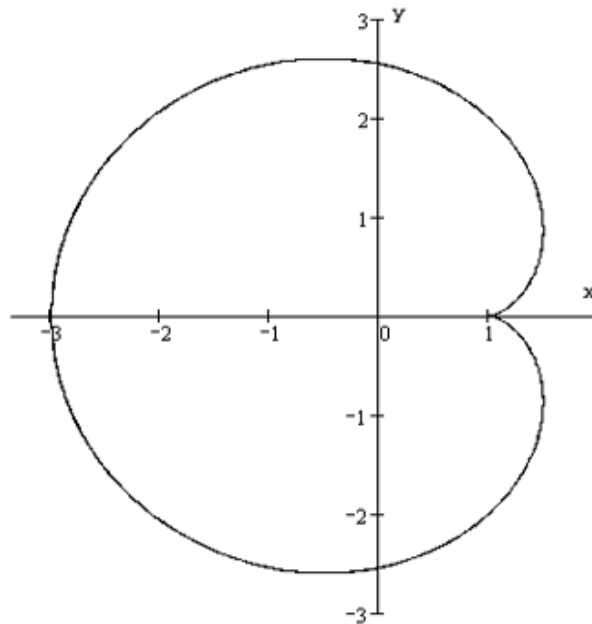
Используя параметрическое представление $x = a \cos^3 t$, $y = a \sin^3 t$ при изменении параметра t в пределах от 0 до $\frac{\pi}{2}$, получаем:

$$S = \frac{1}{2} \left\{ 4 \int_{T_0}^{T_1} [x(t)y'(t) - x'(t)y(t)] dt \right\} = 6a^2 \int_0^{\frac{\pi}{2}} [\cos^4 t \sin^2 t + \sin^4 t \cos^2 t] dt =$$

$$= 6a^2 \int_0^{\frac{\pi}{2}} [\cos^2 t \sin^2 t (\sin^2 t + \cos^2 t)] dt = \frac{3}{2} \int_0^{\frac{\pi}{2}} \sin^2 2t dt = \frac{3}{8} \pi a^2. \blacktriangleleft$$

6.1.5. Найти площадь фигуры, ограниченной кардиоидой $x(t) = 2a \cos t - a \cos 2t$, $y(t) = 2a \sin t - a \sin 2t$.

■ Изобразим кривую в декартовых координатах:



Так как кардиоида симметрична относительно оси Ox , то, используя параметрическое представление, будем менять параметр t в пределах от 0 до π . Так как

$$x'(t) = 2a \sin t (2 \cos t - 1) \quad \text{и} \quad y'(t) = 2a (\cos t - \cos 2t),$$

получаем по любой из трех формул

$$S = - \int_{T_0}^{T_1} y(t)x'(t) dt = -8a^2 \int_0^{\pi} \sin^2 t (2 \cos t - 1)(1 - \cos t) dt =$$

$$\begin{aligned}
&= -8a^2 \int_0^{\pi} \sin^2 t (3 \cos t - 2 \cos^2 t - 1) dt = -8a^2 \left\{ 3 \int_0^{\pi} \sin^2 t \cos t dt - 2 \int_0^{\pi} \sin^2 t \cos^2 t dt - \int_0^{\pi} \sin^2 t dt \right\} = \\
&= -8a^2 \left\{ 3 \int_0^{\pi} \sin^2 t d(\sin t) - \frac{1}{2} \int_0^{\pi} \sin^2 2t dt - \int_0^{\pi} \sin^2 t dt \right\} = \\
&= -8a^2 \left\{ \sin^3 t \Big|_0^{\pi} - \frac{1}{4} \left(t - \frac{\sin 4t}{4} \right) \Big|_0^{\pi} - \frac{1}{2} \left(t - \frac{\sin 2t}{2} \right) \Big|_0^{\pi} \right\} = 6\pi a^2, \\
S &= \int_{T_0}^{T_1} x(t) y'(t) dt = 4a^2 \int_0^{\pi} (\cos t - \cos 2t)(2 \cos t - \cos 2t) dt = \\
&= 4a^2 \int_0^{\pi} (2 \cos^2 2t - 3 \cos t \cos 2t + \cos^2 2t) dt = \\
&= 4a^2 \int_0^{\pi} (2 \cos^2 2t - 3 \cos t + 6 \cos t \sin^2 t + \cos^2 2t) dt =, \\
&= 4a^2 \left\{ \left(t + \frac{\sin 2t}{2} \right) \Big|_0^{\pi} - 3 \sin t \Big|_0^{\pi} + \sin^3 t \Big|_0^{\pi} + \frac{1}{2} (t + \sin 4t) \Big|_0^{\pi} \right\} = 6\pi a^2 \\
S &= \frac{1}{2} \int_{T_0}^{T_1} [x(t) y'(t) - x'(t) y(t)] dt = 6\pi a^2.
\end{aligned}$$

Отметим, что площадь кардиоиды задаваемой уравнением в полярных координатах

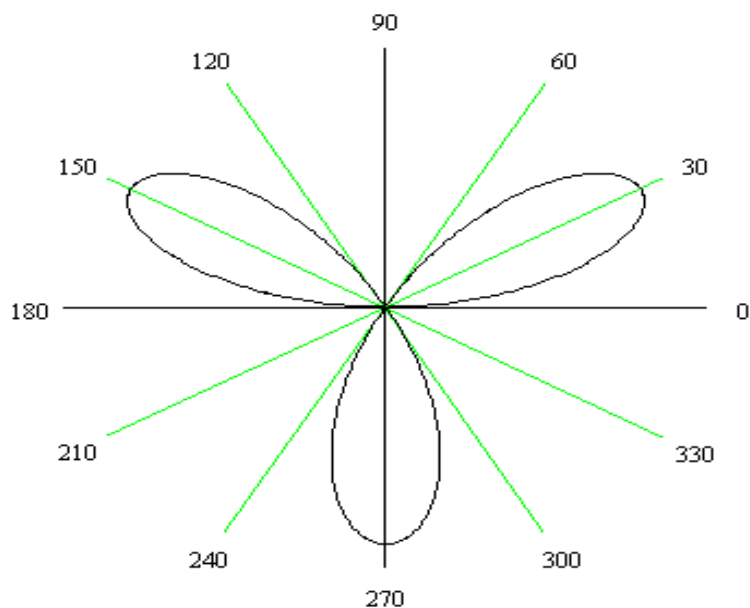
$$r(\varphi) = a(1 + \cos \varphi)$$

равна

$$S = \frac{1}{2} \int_{\varphi_0}^{\varphi_1} [r(\varphi)]^2 d\varphi = \frac{a^2}{2} \int_0^{2\pi} [r(\varphi)]^2 d\varphi = \frac{3}{2} \pi a^2. \blacktriangleleft$$

6.1.6. Найти площадь области, ограниченной кривой $r = \sin 3\varphi$.

■ Кривая образует три симметричные петли, каждая из которых ограничивает криволинейный сектор. Изобразим ее в полярных координатах.



Рассмотрим сектор, лежащий в первой четверти:

$$D_1 = \{(r, \varphi) : 0 \leq \varphi \leq \pi/3, 0 \leq r \leq \sin 3\varphi\}.$$

Площадь его, очевидно, равна 1/3 площади всей области, ограниченной данной кривой. Следовательно,

$$S = \frac{3}{2} \int_0^{\pi/3} \sin^2 3\varphi d\varphi = \frac{3}{4} \int_0^{\pi/3} (1 - \cos 6\varphi) d\varphi = \frac{3}{4} \left(\varphi - \frac{\sin 6\varphi}{6} \right) \Big|_0^{\pi/3} = \frac{\pi}{4}. \blacktriangleleft$$

6.2. Вычисление объема вращения

Пусть $D = \{(x, y) : a \leq x \leq b, f_1(x) \leq y \leq f_2(x)\}$ - стандартная относительно оси Ox область. Если ось Ox не пересекает область D , то объем тела, образованное вращением области D вокруг оси Ox равна

$$V_{Ox} = \pi \int_a^b [f_2^2(x) - f_1^2(x)] dx,$$

если ось Oy не пересекает область D , то объем тела, образованное вращением области D вокруг оси Oy равна

$$V_{Oy} = 2\pi \int_a^b x(f_2(x) - f_1(x)) dx.$$

Если область D ограничена непрерывной замкнутой кривой, заданной параметрически

$$\Gamma : x = x(t), y = y(t), t \in [T_0, T_1], x(T_0) = x(T_1), y(T_0) = y(T_1),$$

причем при изменении t от T_0 до T_1 кривая Γ проходится так, что область D остается слева. Если область D не пересекается с соответствующей осью координат и функции $x = x(t)$ и $y = y(t)$ непрерывно дифференцируемы на $[T_0, T_1]$, то

$$V_{Ox} = -\pi \int_{T_0}^{T_1} y^2(t) x'(t) dt = 2\pi \int_{T_0}^{T_1} x(t) |y(t)| y'(t) dt,$$

$$V_{Oy} = -2\pi \int_{T_0}^{T_1} |x(t) y(t)| x'(t) dt = \pi \int_{T_0}^{T_1} x^2(t) y'(t) dt.$$

Примеры:

6.2.1. Вычислить объём тела, полученного вращением параболы $y = x^2$ вокруг осей Ox и Oy , ограниченного прямыми $x = 1$ и $x = 2$.

■ Так как $a = 1$, $b = 2$, $y = f(x) = x^2$, то объём тела, полученного вращением параболы вокруг Ox

$$V_{Ox} = \pi \int_1^2 x^4 dx = \pi \left(\frac{x^5}{5} \right) \Big|_1^2 = \frac{31\pi}{5},$$

вокруг Oy

$$V_{Oy} = 2\pi \int_1^2 x^3 dx = 2\pi \left(\frac{x^4}{4} \right) \Big|_1^2 = \frac{15\pi}{2}. \blacktriangleleft$$

6.2.2. Вычислить объём удлинённого и укороченного эллипсоида, образованного вращением эллипса $\frac{x^2}{a^2} + \frac{y^2}{b^2} = 1$ вокруг осей абсцисс (удлинённый эллипсоид) и ординат (укороченный эллипсоид).

■ Используем параметрическое представление эллипса

$$x = a \cos t, y = b \sin t.$$

Вычисляя производные $x' = -a \sin t$, $y' = b \cos t$. Тогда, при изменении t от 0 до π , получаем для удлинённого эллипса

$$V_{Ox} = -\pi \int_0^{\pi} y^2(t) x'(t) dt = \pi ab^2 \int_0^{\pi} \sin^3 t dt = \pi ab^2 \int_0^{\pi} (1 - \cos^2 t) \sin t dt =$$

$$= -\pi ab^2 \int_0^{\pi} (1 - \cos^2 t) d \cos t = -\pi ab^2 \left(\cos t - \frac{\cos^3 t}{3} \right) \Big|_0^{\pi} = \frac{4\pi ab^2}{3},$$

а для укороченного

$$V_{Oy} = \pi \int_0^{\pi} x^2(t) y'(t) dt = \pi a^2 b \int_0^{\pi} \cos^3 t dt = \frac{4\pi a^2 b}{3}.$$

Обратим внимание, что в случае шара $a = b = R$, его объем равен

$$V = \frac{4}{3} \pi R^3. \blacktriangleleft$$

6.2.3. Вычислить объем тела, образованного вращением астроида $x^{2/3} + y^{2/3} = a^{2/3}$ вокруг оси абсцисс.

■ Используя параметрическое представление $x = a \cos^3 t$, $y = a \sin^3 t$ при изменении параметра t в пределах от 0 до $\frac{\pi}{2}$, получаем:

$$x' = -3a \cos^2 t \sin t, \quad y' = 3a \cos t \sin^2 t,$$

а объем тела равен

$$V_{Ox} = 2\pi \int_0^{\pi/2} x^2(t) y'(t) dt = 6\pi a^3 \int_0^{\pi/2} \cos^7 t \sin^2 t dt = \frac{32\pi a^3}{105}. \blacktriangleleft$$

6.3. Вычисление длины дуги кривой.

Если плоская кривая Γ задана параметрически

$$\begin{cases} x = x(t) \\ y = y(t) \end{cases}, \quad t_0 \leq t \leq t_1,$$

причем $x(t)$ и $y(t)$ - непрерывно дифференцируемые функции, то она имеет длину, вычисляемую по следующей формуле

$$l = \int_{t_1}^{t_2} \sqrt{[\varphi'(t)]^2 + [\psi'(t)]^2} dt.$$

Если плоская кривая Γ – график непрерывно дифференцируемой функции $y = f(x)$ и $x_0 \leq x \leq x_1$, то длина этой кривой вычисляется по формуле

$$l = \int_a^b \sqrt{1 + [f'(x)]^2} dx.$$

В полярных координатах

$$l = \int_{\alpha}^{\beta} \sqrt{[\rho'(\varphi)]^2 + [\rho(\varphi)]^2} d\varphi.$$

Пусть задана дуга кривой $\Gamma: \{x(t), y(t), t \in [T_0, T_1]\}$ и функции $x(t), y(t)$ непрерывно дифференцируемы на $t \in [T_0, T_1]$, то дифференциал функции длины дуги $l(t)$ называется дифференциалом дуги и вычисляется по одной из формул:

$$dl = \sqrt{[x'(t)]^2 + [y'(t)]^2} dt,$$

$$dl = \sqrt{1 + [f'(x)]^2} dx,$$

$$dl = \sqrt{[\rho'(\varphi)]^2 + [\rho(\varphi)]^2} d\varphi.$$

Примеры:

6.3.1. Вычислить длину линии $y = \ln x$ от $a = \sqrt{3}$ до $b = \sqrt{8}$.

■ Так как $y' = (\ln x)' = \frac{1}{x}$, то искомая длина равна

$$l = \int_{\sqrt{3}}^{\sqrt{8}} \sqrt{1 + \frac{1}{x^2}} dx = \int_{\sqrt{3}}^{\sqrt{8}} \frac{\sqrt{x^2 + 1}}{x} dx.$$

Положим $t = \sqrt{x^2 + 1}$, отсюда $x = \sqrt{t^2 - 1}$, $dx = \frac{tdt}{\sqrt{t^2 - 1}}$. Новые пределы

интегрирования: $\alpha = 2$, $\beta = 3$. Тогда:

$$l = \int_0^1 \frac{\sqrt{x^2 + 1}}{x} dx = \int_2^3 \frac{t^2}{t^2 - 1} dt = \int_2^3 \left(1 + \frac{1}{t^2 - 1}\right) dt = t \Big|_2^3 + \frac{1}{2} \ln \left| \frac{t-1}{t+1} \right| \Big|_2^3 = 1 + \frac{1}{2} \ln \frac{3}{2} \blacktriangleleft$$

6.3.2. Вычислить длину астроиды, заданной уравнением $x^{2/3} + y^{2/3} = a^{2/3}$ ($x = a \cos^3 t$, $y = a \sin^3 t$).

■ Используя параметрическое представление при изменении параметра t в пределах от 0 до $\frac{\pi}{2}$ (первая четверть) и находя производные

$$x'(t) = -3a \cos^2 t \sin t \quad \text{и} \quad y'(t) = 3a \cos t \sin^2 t,$$

Получаем

$$\begin{aligned} l &= 4 \int_0^{\frac{\pi}{2}} \sqrt{[x'(t)]^2 + [y'(t)]^2} dt = 12a \int_0^{\frac{\pi}{2}} \sqrt{\cos^4 t \sin^2 t + \cos^2 t \sin^4 t} dt = \\ &= 12a \int_0^{\frac{\pi}{2}} \cos t \sin t dt = 6a. \blacktriangleleft \end{aligned}$$

6.3.3. Вычислить длину кардиоиды, заданной уравнением $r(\varphi) = a(1 + \cos \varphi)$.

■ Так как $r'(\varphi) = -a \sin \varphi$, то

$$\begin{aligned} l &= \int_{\alpha}^{\beta} \sqrt{[\rho'(\varphi)]^2 + [\rho(\varphi)]^2} d\varphi = 2 \int_0^{\pi} \sqrt{[-a \sin \varphi]^2 + [a(1 + \cos \varphi)]^2} d\varphi = \\ &= 2a \int_0^{\pi} \sqrt{2(1 + \cos \varphi)} d\varphi = 4a \int_0^{\pi} \cos \frac{\varphi}{2} d\varphi = 8a \sin \frac{\varphi}{2} \Big|_0^{\pi} = 8a. \blacktriangleleft \end{aligned}$$

6.4. Вычисление площади поверхности вращения

Пусть задана кривая $\Gamma: \{x(t), y(t), t \in [T_0, T_1]\}$, и прямая τ , являющаяся осью вращения. Тогда площадь поверхности S полученная вращением Γ вокруг оси τ вычисляется по формуле

$$S = 2\pi \int_{T_0}^{T_1} \rho(t) dl,$$

где $\rho(t)$ - расстояние от точки $M(x(t), y(t))$, лежащей на кривой Γ , до оси вращения τ , а dl - дифференциал дуги Γ .

То есть если поверхность:

а) получается при вращении кривой $y = f(x)$, $a \leq x \leq b$ вокруг оси Ox , то в качестве параметра вводится переменная x , $\rho(t) = f(x)$, $dl = \sqrt{1 + [f'(x)]^2} dx$ и искомая площадь равна

$$S = 2\pi \int_a^b y \sqrt{1 + y'^2} dx.$$

б) получается при вращении параметрически заданной кривой $x = x(t)$, $y = y(t)$ вокруг оси Ox , то $\rho(t) = y(t)$, $dl = \sqrt{[x'(t)]^2 + [y'(t)]^2} dt$, а её площадь равна

$$S = 2\pi \int_{T_0}^{T_1} y(t) \sqrt{[x'(t)]^2 + [y'(t)]^2} dt.$$

в) получается при вращении кривой заданной в полярных координатах $r = r(\varphi)$ вокруг полярной оси, то $\rho(t) = y(\varphi)$, $dl = \sqrt{[\rho'(\varphi)]^2 + [\rho(\varphi)]^2} d\varphi$, площадь находится по формуле

$$S = 2\pi \int_{\varphi_0}^{\varphi_1} y(\varphi) \sqrt{[\rho'(\varphi)]^2 + [\rho(\varphi)]^2} d\varphi.$$

Примеры:

6.4.1. Вычислить площадь поверхности, образованной вращением астроида, заданной уравнениями $x = a \cos^3 t$, $y = a \sin^3 t$ вокруг оси абсцисс.

■ Так как

$$\Gamma : \left\{ x(t) = a \cos^3 t, y(t) = a \sin^3 t, t \in \left[0, \frac{\pi}{2} \right] \right\},$$

$$\rho(t) = y(t) = a \sin^3 t,$$

$$dl = 3a \sin t \cos t \sqrt{\sin^2 t + \cos^2 t} dt = 3a \sin t \cos t dt$$

то площадь поверхности, получаемой при вращении астроида равна

$$S = 2\pi \int_{T_0}^{T_1} \rho(t) dl = 6\pi a^2 \int_0^{\frac{\pi}{2}} \sin^4 t \cos t dt = \frac{12\pi a^2}{5} \blacktriangleleft$$

6.4.2. Вычислить площадь поверхности получаемой вращением цепной линии $y = a \operatorname{ch} \frac{x}{a}$ (такая поверхность называется катеноидом) вокруг оси абсцисс и ограниченного двумя плоскостями $x=0$ и $x=a$, перпендикулярными оси абсцисс.

■ Напомним, что

$$\operatorname{sh} x = \frac{e^x - e^{-x}}{2}, \quad \operatorname{ch} x = \frac{e^x + e^{-x}}{2}, \quad \operatorname{ch}^2 x - \operatorname{sh}^2 x = 1$$

$$(\operatorname{sh} x)' = \operatorname{ch} x, \quad (\operatorname{ch} x)' = \operatorname{sh} x.$$

Тогда площадь поверхности катеноида будет равна

$$\begin{aligned} S &= 2\pi \int_a^b y \sqrt{1 + y'^2} dx = 2\pi \int_0^a \operatorname{ch} x \sqrt{1 + \operatorname{sh}^2 x} dx = 2\pi \int_0^a \operatorname{ch}^2 x dx = \\ &= 2\pi a^2 \left(\frac{x}{2} + \frac{\operatorname{sh} 2x}{4} \right) \Big|_0^a = \frac{\pi a^2}{4} (e^2 - e^{-2} + 4). \blacktriangleleft \end{aligned}$$

6.4.3. Найти площадь поверхности вращения удлиненного и укороченного эллипсоида (см. задачу 6.2.2.).

■ Используем параметрическое представление эллипса

$$x = a \cos t, \quad y = b \sin t.$$

Вычисляя производные $x' = -a \sin t$, $y' = b \cos t$. Тогда, при изменении t от 0 до $\frac{\pi}{2}$, получаем для удлиненного эллипсоида

$$\begin{aligned} S &= 4\pi \int_0^{\frac{\pi}{2}} y(t) \sqrt{[x'(t)]^2 + [y'(t)]^2} dt = 4\pi b \int_0^{\frac{\pi}{2}} \sin t \sqrt{a^2 \sin^2 t + b^2 \cos^2 t} dt = \\ &= 4\pi b \int_0^{\frac{\pi}{2}} \sin t \sqrt{(b^2 - a^2) \cos^2 t + a^2} dt \end{aligned}$$

Обозначая $\varepsilon = \frac{\sqrt{a^2 - b^2}}{a}$ - эксцентриситет эллипса, получаем:

$$\begin{aligned}
 S &= 4\pi ab \int_0^{\frac{\pi}{2}} \sin t \sqrt{1 - \varepsilon^2 \cos^2 t} dt = \frac{4\pi ab}{\varepsilon} \int_0^{\varepsilon} \sin t \sqrt{1 - z^2} dz = \\
 &= \frac{4\pi ab}{\varepsilon} \left(\frac{\varepsilon \sqrt{1 - \varepsilon^2}}{2} + \frac{\arcsin \varepsilon}{2} \right) = 2\pi b^2 + \frac{2\pi ab}{\varepsilon} \arcsin \varepsilon.
 \end{aligned}$$

Аналогично, для укороченного эллипсоида

$$S = 4\pi \int_0^{\frac{\pi}{2}} x(t) \sqrt{[x'(t)]^2 + [y'(t)]^2} dt = 2\pi a^2 + \frac{2\pi b^2}{\varepsilon} \ln \frac{1 + \varepsilon}{1 - \varepsilon} \blacktriangleleft$$

1. Найти неопределённый интеграл

1. $\int(4+3x)e^{2x} dx$

2. $\int(5-2x)e^{x/3} dx$

3. $\int(1-5x)e^{-3x} dx$

4. $\int(3-4x)e^{3x} dx$

5. $\int(1-2x)e^{-x} dx$

6. $\int(1+3x)e^{-2x/7} dx$

7. $\int(4+3x)e^{3x} dx$

8. $\int(11+x)e^{5x} dx$

9. $\int(5+2x)e^{-5x} dx$

10. $\int(5-x)e^{-x} dx$

11. $\int(4-7x)e^{-4x} dx$

12. $\int\left(x-\frac{1}{3}\right)e^{-8x} dx$

13. $\int(2x-1)e^{6x} dx$

14. $\int(4+x)e^{-2x/7} dx$

15. $\int(6x+11)e^{9x} dx$

16. $\int(13+x)e^{-5x/3} dx$

17. $\int(10-x)e^{-2x/3} dx$

18. $\int(7+5x)e^x dx$

19. $\int(3x-13)e^{x/4} dx$

20. $\int(8+x)e^{-2x+1} dx$

21. $\int(8x-5)e^{6x} dx$

22. $\int(5+2x)e^{-x/2} dx$

23. $\int(3-4x)e^{-2x/5} dx$

24. $\int(5x+12)e^{-6x} dx$

25. $\int(x+2)e^{-x} dx$

26. $\int(4+x)e^{-3x/2} dx$

27. $\int(8+x)e^{3x/4} dx$

28. $\int(3-4x)e^{5x} dx$

29. $\int(3+4x)e^{-2x} dx$

30. $\int(5+9x)e^{-x/4} dx$

2. Найти неопределённый интеграл

1. $\int (4 + 3x) \cos 2x dx$

2. $\int (5 - 2x) \sin 3x dx$

3. $\int (1 - 5x) \sin 8x dx$

4. $\int (3 - 4x) \sin 3x dx$

5. $\int (1 - 2x) \cos 6x dx$

6. $\int (1 + 3x) \sin 5x dx$

7. $\int (4 + 3x) \cos 4x dx$

8. $\int (11 + x) \cos 2x dx$

9. $\int (5 + 2x) \cos 2x dx$

10. $\int (5 - x) \cos 6x dx$

11. $\int (4 - 7x) \sin 2x dx$

12. $\int (x - 3) \cos 8x dx$

13. $\int (2x - 1) \cos 3x dx$

14. $\int (4 + x) \sin 3x dx$

15. $\int (6x + 11) \sin 5x dx$

16. $\int (13 + x) \cos x dx$

17. $\int (10 - x) \cos 2x dx$

18. $\int (7 + 5x) \sin 6x dx$

19. $\int (3x - 13) \sin 4x dx$

20. $\int (8 + x) \cos 4x dx$

21. $\int (8x - 5) \cos 5x dx$

22. $\int (5 + 2x) \sin 5x dx$

23. $\int (3 - 4x) \sin 4x dx$

24. $\int (5x + 12) \cos 3x dx$

25. $\int (x + 2) \sin 3x dx$

26. $\int (4 + x) \sin 3x dx$

27. $\int (8 + x) \sin 3x dx$

28. $\int (3 - 4x) \sin 2x dx$

29. $\int (3 + 4x) \sin x dx$

30. $\int (5 + 9x) \cos 6x dx$

3. Найти неопределённый интеграл

1. $\int (4 + 3x) \ln 2x dx$

2. $\int (5 - 2x) \ln 3x dx$

3. $\int (1 - 5x) \ln 6x dx$

4. $\int (3 - 4x) \ln 2x dx$

5. $\int (1 - 2x) \ln 4x dx$

6. $\int (1 + 3x) \ln 4x dx$

7. $\int (4 + 3x) \ln 3x dx$

8. $\int (11 + x) \ln x dx$

9. $\int (5 + 2x) \ln 4x dx$

10. $\int (5 - x) \ln 3x dx$

11. $\int (4 - 7x) \ln x dx$

12. $\int \left(x - \frac{2}{3}\right) \ln 7x dx$

13. $\int (2x - 1) \ln 4x dx$

14. $\int (4 + x) \ln x dx$

15. $\int (6x + 11) \ln 6x dx$

16. $\int (13 + x) \ln 13x dx$

17. $\int (10 - x) \ln x dx$

18. $\int (7 + 5x) \ln 3x dx$

19. $\int (3x - 13) \ln 3x dx$

20. $\int (8 + x) \ln 2x dx$

21. $\int (8x - 5) \ln 2x dx$

22. $\int (5 + 2x) \ln 5x dx$

23. $\int (3 - 4x) \ln 4x dx$

24. $\int (5x + 12) \ln 2x dx$

25. $\int (x + 2) \ln 3x dx$

26. $\int (4 + x) \ln 4x dx$

27. $\int (8 + x) \ln 2x dx$

28. $\int (3 - 4x) \ln 4x dx$

29. $\int (3 + 4x) \ln 3x dx$

30. $\int (5 + 9x) \ln 2x dx$

4. Найти неопределённый интеграл

5. Найти неопределённый интеграл

1. $\int \frac{dx}{x\sqrt{3x+2}}$

2. $\int \frac{dx}{x^2\sqrt{6-x}}$

3.
$$\int \frac{dx}{(x+1)\sqrt{2x+3}}$$

4.
$$\int \frac{4dx}{x\sqrt{5x+3}}$$

5.
$$\int \frac{dx}{(x-1)\sqrt{6+x}}$$

6.
$$\int \frac{dx}{x\sqrt{7-2x}}$$

7.
$$\int \frac{dx}{x\sqrt{5x-8}}$$

8.
$$\int \frac{dx}{x\sqrt{7x-2}}$$

9.
$$\int \frac{dx}{(x+3)\sqrt{5x+11}}$$

10.
$$\int \frac{dx}{(x+3)\sqrt{5x+11}}$$

11.
$$\int \frac{dx}{x\sqrt{13x+9}}$$

12.
$$\int \frac{dx}{x^2\sqrt{2x-11}}$$

13.
$$\int \frac{dx}{x\sqrt{18-6x}}$$

14.
$$\int \frac{dx}{x\sqrt{6x+13}}$$

15.
$$\int \frac{dx}{x\sqrt{7x-2}}$$

16.
$$\int \frac{dx}{x\sqrt{-5x-21}}$$

17.
$$\int \frac{dx}{x\sqrt{-3x+3}}$$

18.
$$\int \frac{dx}{x\sqrt{14x+10}}$$

19.
$$\int \frac{dx}{(x+4)\sqrt{4-x}}$$

20.
$$\int \frac{dx}{x\sqrt{8-3x}}$$

21.
$$\int \frac{dx}{x\sqrt{2x-9}}$$

22.
$$\int \frac{dx}{x\sqrt{17-5x}}$$

23.
$$\int \frac{dx}{x\sqrt{11x-7}}$$

24.
$$\int \frac{dx}{(x+1)\sqrt{3/4x-1}}$$

25.
$$\int \frac{dx}{x\sqrt{6x-13}}$$

26.
$$\int \frac{dx}{(1-x)\sqrt{4x-1}}$$

27.
$$\int \frac{dx}{5x\sqrt{9x-2}}$$

28.
$$\int \frac{dx}{x\sqrt{3x+11}}$$

29. $\int \frac{dx}{x\sqrt{3x-1}}$

30. $\int \frac{dx}{x\sqrt{14x+2}}$

6. Найти неопределённый интеграл

1. $\int \frac{\sin x dx}{3\sin x + 1}$

2. $\int \frac{\cos x dx}{5 + \cos x}$

3. $\int \frac{\sin 3x dx}{6 + \cos x}$

4. $\int \frac{\sin 2x dx}{1 + \sin x}$

5. $\int \frac{\sin 2x dx}{\sin x + 4}$

6. $\int \frac{\sin 2x dx}{5 + \sin 2x}$

7. $\int \frac{\cos 2x dx}{\sin 3x - 8}$

8. $\int \frac{\sin x dx}{5 - \cos 3x}$

9. $\int \frac{2\sin x dx}{3\sin x + 1}$

10. $\int \frac{\sin 2x dx}{3\sin x - 9}$

11. $\int \frac{1 + \sin 2x dx}{3 + \sin x}$

12. $\int \frac{1 + \sin x dx}{4 - \sin 2x}$

13. $\int \frac{\cos x dx}{8 + \sin x}$

14. $\int \frac{\sin 2x dx}{8 + \cos 2x}$

15. $\int \frac{\sin x dx}{4 - 4\sin x}$

16. $\int \frac{2\sin x dx}{3 + 4\cos x}$

17. $\int \frac{4\sin x dx}{2 - 6\sin x}$

18. $\int \frac{6\cos x dx}{9 + \sin x}$

19. $\int \frac{\sin 2x dx}{7 - 2\sin x}$

20. $\int \frac{7\sin x dx}{8 - 2\sin x}$

21. $\int \frac{4\sin x dx}{3\sin x - 5}$

22. $\int \frac{\sin 2x dx}{12 + 4\sin x}$

23. $\int \frac{2 \cos x dx}{5 - \sin x}$

24. $\int \frac{\cos x dx}{9 - 4 \sin x}$

25. $\int \frac{\sin x dx}{6 + \cos 2x}$

26. $\int \frac{2 \sin x dx}{8 + 11 \sin x}$

27. $\int \frac{8 \sin x dx}{12 + \sin x}$

28. $\int \frac{5 \sin x dx}{13 + \sin 6x}$

29. $\int \frac{\cos x dx}{3 + \cos x}$

30. $\int \frac{\sin x dx}{3 + \sin x}$

7. Найти неопределённый интеграл

1. $\int \frac{x^3 - 2}{x^2 - 1} dx$

2. $\int \frac{2x^3 + 1}{x^2 - 12} dx$

3. $\int \frac{x^3 + 4}{x^2 - 5} dx$

4. $\int \frac{x^3 - 1}{x^2 + 1} dx$

5. $\int \frac{x^3 - 5}{2x^2 - 2} dx$

6. $\int \frac{x^3 - 8}{x^2 - 4} dx$

7. $\int \frac{x^3 - 12}{2x^2 + 1} dx$

8. $\int \frac{3x^3 - 7}{x^2 + 2} dx$

9. $\int \frac{x^3 - 2}{x^2 - 7} dx$

10. $\int \frac{2x^3 - 1}{3x^2 - 1} dx$

11. $\int \frac{x^3 + 9}{2x^2 - 11} dx$

12. $\int \frac{x^3 + 1}{x^2 - 6} dx$

13. $\int \frac{x^3 + 12}{2x^2 - 1} dx$

14. $\int \frac{x^3 + 14}{8x^2 - 1} dx$

15. $\int \frac{x^3 + 11}{x^2 - 11} dx$

16. $\int \frac{x^3 + 3}{x^2 - 5} dx$

17. $\int \frac{2x^3 + 6}{2x^2 - 8} dx$

18. $\int \frac{x^3 + 5}{3x^2 - 1} dx$

19. $\int \frac{x^3 + 9}{2x^2 - 4} dx$

20. $\int \frac{2x^3 + 1}{7x^2 - 1} dx$

21. $\int \frac{9x^3 + 2}{x^2 - 5} dx$

22. $\int \frac{2x^3 + 3}{8x^2 - 1} dx$

23. $\int \frac{9x^3 + 1}{x^2 - 2} dx$

24. $\int \frac{11x^3 + 3}{x^2 - 2} dx$

25. $\int \frac{2x^3 + 1}{4x^2 - 1} dx$

26. $\int \frac{13x^3 + 2}{5x^2 - 1} dx$

27. $\int \frac{2x^3 + 1}{5x^2 - 3} dx$

28. $\int \frac{x^3 + 8}{2x^2 - 5} dx$

29. $\int \frac{5x^3 + 6}{2x^2 - 3} dx$

30. $\int \frac{2x^3 + 4}{6x^2 - 2} dx$

8. Найти неопределённый интеграл

1. $\int \frac{x^3 + 1}{(x+1)^2 (x-2)^2} dx$

2. $\int \frac{x^3 + 1}{(x+3)^2 (x-7)^2} dx$

3. $\int \frac{x^3 + 6}{(2x+3)^2 (x-1)^2} dx$

4. $\int \frac{x^3 + 2}{(3x+1)^2 (x-3)^2} dx$

5. $\int \frac{x^3 + 1}{(x+6)^2 (x-2)^2} dx$

6. $\int \frac{x^3 + 2}{2(x+2)^2 (2x-4)^2} dx$

7. $\int \frac{x^3 + 4}{(x+4)^2 (8x-3)^2} dx$

8. $\int \frac{x^3 + 1}{(2x+1)^2 (x-1)^2} dx$

9.
$$\int \frac{x^3 + 9}{(2x+1)^2(x-6)^2} dx$$

10.
$$\int \frac{x^3 + 8}{(x+2)^2(2x-1)^2} dx$$

11.
$$\int \frac{x^3 + 2}{(x+2)^2(x-4)^2} dx$$

12.
$$\int \frac{x^3 + 1}{(x+11)^2(x-4)^2} dx$$

13.
$$\int \frac{x^3 + 6}{(9x+1)^2(4x-1)^2} dx$$

14.
$$\int \frac{x^3 + 19}{(2x+1)^2(x-3)^2} dx$$

15.
$$\int \frac{x^3 + 7}{(9x+1)^2(2x-1)^2} dx$$

16.
$$\int \frac{x^3 + 6}{(4x+1)^2(2x-3)^2} dx$$

17.
$$\int \frac{x^3 + 15}{(6x+1)^2(x-1)^2} dx$$

18.
$$\int \frac{x^3 + 3}{(x+16)^2(4x-1)^2} dx$$

19.
$$\int \frac{x^3 + 1}{(8x+1)^2(6x-1)^2} dx$$

20.
$$\int \frac{x^3 + 5}{(11x+1)^2(3x-1)^2} dx$$

21.
$$\int \frac{x^3 + 1}{(x+1)^2(8x-1)^2} dx$$

22.
$$\int \frac{x^3 + 2}{(x+13)^2(9x-1)^2} dx$$

23.
$$\int \frac{x^3 + 7}{(x+3)^2(2x-7)^2} dx$$

24.
$$\int \frac{x^3 + 8}{(9x+1)^2(2x-1)^2} dx$$

25.
$$\int \frac{x^3 + 15}{(4x+1)^2(7x-1)^2} dx$$

26.
$$\int \frac{x^3 + 5}{(6x+1)^2(2x-1)^2} dx$$

27.
$$\int \frac{x^3 + 15}{(x+1)^2(9x-1)^2} dx$$

28.
$$\int \frac{x^3 + 13}{(4x+1)^2(5x-2)^2} dx$$

29.
$$\int \frac{x^3 + 11}{(x+7)^2(x-4)^2} dx$$

30.
$$\int \frac{x^3 + 5}{(x+2)^2(x-6)^2} dx$$

9. Найти неопределённый интеграл

1. $\int \frac{\sqrt{3 + \sqrt{2x}}}{x^4 \sqrt{x^3}} dx$
2. $\int \frac{\sqrt{2 + \sqrt{4x}}}{x^5 \sqrt{x^3}} dx$
3. $\int \frac{\sqrt{7 + \sqrt{x}}}{x^4 \sqrt{x^3}} dx$
4. $\int \frac{\sqrt{4 - 2\sqrt{x}}}{x^4 \sqrt{x^3}} dx$
5. $\int \frac{\sqrt{7 + 2\sqrt{x}}}{x^4 \sqrt{x^3}} dx$
6. $\int \frac{\sqrt{5 + \sqrt{x}}}{x^5 \sqrt{x^4}} dx$
7. $\int \frac{\sqrt{5 - 3\sqrt{x}}}{x^4 \sqrt{x^3}} dx$
8. $\int \frac{\sqrt{11 + 9\sqrt{x}}}{x^4 \sqrt{x^3}} dx$
9. $\int \frac{\sqrt{12 + \sqrt{x}}}{x^5 \sqrt{x^3}} dx$
10. $\int \frac{\sqrt{2 + 8\sqrt{x}}}{x^4 \sqrt{x^3}} dx$
11. $\int \frac{\sqrt{1 + 6\sqrt{x}}}{x^5 \sqrt{x^4}} dx$
12. $\int \frac{\sqrt{2 + 3\sqrt{x}}}{x^4 \sqrt{x^3}} dx$
13. $\int \frac{\sqrt{7 - 2\sqrt{x}}}{x^4 \sqrt{x^3}} dx$
14. $\int \frac{\sqrt{1 - 5\sqrt{x}}}{x^4 \sqrt{x^3}} dx$
15. $\int \frac{\sqrt{1 + 3\sqrt{x}}}{x^4 \sqrt{x^3}} dx$
16. $\int \frac{\sqrt{7 - \sqrt{x}}}{x^4 \sqrt{x^3}} dx$
17. $\int \frac{\sqrt{5 + 2\sqrt{x}}}{x^4 \sqrt{x^3}} dx$
18. $\int \frac{\sqrt{3 - 2\sqrt{x}}}{x^4 \sqrt{x^3}} dx$
19. $\int \frac{\sqrt{1 + 11\sqrt{x}}}{x^4 \sqrt{x^3}} dx$
20. $\int \frac{\sqrt{3 + 2\sqrt{x}}}{x^4 \sqrt{x^3}} dx$
21. $\int \frac{\sqrt{4 + 9\sqrt{x}}}{x^4 \sqrt{x^3}} dx$
22. $\int \frac{\sqrt{1 - 15\sqrt{x}}}{\sqrt[5]{x^4}} dx$

23. $\int \frac{\sqrt{3+\sqrt{x}}}{x^4\sqrt{x^3}} dx$

24. $\int \frac{\sqrt{9+3\sqrt{x}}}{x^4\sqrt{x^3}} dx$

25. $\int \frac{\sqrt{5-12\sqrt{x}}}{x^4\sqrt{x^3}} dx$

26. $\int \frac{\sqrt{4-\sqrt{x}}}{x^4\sqrt{x^3}} dx$

27. $\int \frac{\sqrt{9-4\sqrt{x}}}{x^4\sqrt{x^3}} dx$

28. $\int \frac{\sqrt{2+6\sqrt{x}}}{x^4\sqrt{x^3}} dx$

29. $\int \frac{\sqrt{1+\sqrt{x}}}{x^4\sqrt{x^3}} dx$

30. $\int \frac{\sqrt{11+\sqrt{x}}}{x^4\sqrt{x^3}} dx$

10. Найти неопределённый интеграл

1. $\int \sin^4 x \cos 2x dx$

2. $\int \sin^4 2x \cos x dx$

3. $\int \sin^4 2x \cos 2x dx$

4. $\int \sin^4 x \cos^2 x dx$

5. $\int \sin^3 x \cos 2x dx$

6. $\int \sin^4 2x \cos^2 x dx$

7. $\int 5 \sin^5 x \cos 2x dx$

8. $\int \sin^4 x 2 \cos^4 x dx$

9. $\int \sin^4 x \cos \frac{x}{2} dx$

10. $\int \sin^4 x \cos \frac{x}{2} dx$

11. $\int \sin^4 2x \cos^3 8x dx$

12. $\int \sin^5 x \cos 4x dx$

13. $\int \sin^4 x \cos^2 3x dx$

14. $\int \sin^4 x \cos^2 4x dx$

15. $\int \sin^4 4x \cos 4x dx$

16. $\int \sin^4 4x \cos 6x dx$

17. $\int \sin^4 \frac{x}{2} \cos^5 9x dx$

18. $\int \sin^4 \frac{x}{2} \cos 2x dx$

19. $\int \sin^4 \frac{x}{2} \cos^5 \frac{x}{2} dx$

20. $\int \sin^4 8x \cos \frac{x}{5} dx$

21. $\int \sin^4 4x \cos x dx$

22. $\int \sin^4 5x \cos x dx$

23. $\int \sin^4 3x \cos 4x dx$

24. $\int \sin^4 2x \cos^4 2x dx$

25. $\int \sin^2 x \cos^4 x dx$

26. $\int \sin^4 4x \cos 8x dx$

27. $\int \sin^4 \frac{x}{2} \cos x dx$

28. $\int \sin^4 \frac{x}{2} \cos^3 \frac{x}{2} dx$

29. $\int \sin^4 \frac{x}{2} \cos 2x dx$

30. $\int \sin^4 x \cos x dx$

11. Вычислить определённый интеграл

1. $\int_0^3 (3 + 4x^2) e^{4x} dx$

2. $\int_2^5 (8 + 6x^2) 2e^{3x} dx$

3. $\int_1^4 (3 - 4x^2) e^{3x} dx$

4. $\int_{-3}^{-1} (4 + 9x^2) e^x dx$

5. $\int_0^3 (1 - 3x^2) e^{2x} dx$

6. $\int_1^4 (11x^2 + 7) e^{-2x} dx$

7. $\int_3^5 (4x^2 - 2) e^{6x} dx$

8. $\int_1^2 (12 - 4x^3) e^{2x} dx$

9. $\int_0^4 (5 + 2x^3) e^{3x} dx$

10. $\int_2^4 (8 + 12x^2) e^{3x} dx$

11. $\int_{-1}^1 (2 - x^2) e^x dx$

12. $\int_5^6 (11 + 9x^2) 4e^{3x} dx$

13. $\int_2^4 (7 - 2x^3) e^{-2x} dx$

14. $\int_2^3 (13 - 5x^3) e^{-x} dx$

15. $\int_2^8 (3x^2 - 4) e^{5x} dx$

16. $\int_0^3 (2 + 4x^2) 2e^{-2x} dx$

17. $\int_0^3 (9 + 7x^2) e^{4x} dx$

18. $\int_3^4 (9x^3 - 3) e^x dx$

19. $\int_{-3}^3 (5 + 12x^4) e^{-x} dx$

20. $\int_0^5 (12 - 9x^2) e^{-3x} dx$

21. $\int_{-1}^1 (8 + 2x^3) e^x dx$

22. $\int_0^3 (7 + 4x^2) e^{3x} dx$

23. $\int_{-2}^0 (3 - 7x^2) e^{\frac{x}{2}} dx$

24. $\int_2^3 (2 + 10x^3) e^{-5x} dx$

25. $\int_0^4 (4x^2 - 5) e^{-x} dx$

26. $\int_2^5 (9 + 8x^2) e^{3x} dx$

27. $\int_5^8 (1 + 9x^2) e^{6x} dx$

28. $\int_8^9 (9 + 3x^2) e^{-5x} dx$

29. $\int_0^3 (3 - 4x^2) e^{3x} dx$

30. $\int_5^6 (5 + 2x^3) e^{-2x} dx$

12. Вычислить определённый интеграл

1. $\int_0^{\frac{3\pi}{2}} \sin^5 x dx$

2. $\int_{\frac{\pi}{2}}^{\pi} \sin^4 x dx$

3. $\int_{\frac{\pi}{3}}^{2\pi} \cos^4 x dx$

4. $\int_{\frac{\pi}{4}}^{2\pi} \cos^3 x dx$

5. $\int_{\pi}^{2\pi} \sin^6 x dx$

6. $\int_{\frac{\pi}{3}}^{\frac{\pi}{2}} \sin^4 x dx$

7. $\int_{\frac{\pi}{6}}^{\frac{\pi}{3}} \cos^4 x dx$

8. $\int_{\pi}^{2\pi} \sin^2 x dx$

9. $\int_{\frac{\pi}{4}}^{\pi} \sin^7 x dx$

10. $\int_0^{3\pi} \sin^8 x dx$

11. $\int_0^{\frac{3\pi}{2}} \cos^5 x dx$

12. $\int_{\frac{\pi}{3}}^{\frac{3\pi}{4}} \sin^{11} x dx$

13. $\int_{\pi}^{2\pi} \sin^8 x dx$

14. $\int_{\frac{\pi}{4}}^{\frac{\pi}{2}} \sin^{10} x dx$

15. $\int_{\frac{\pi}{6}}^{\frac{\pi}{2}} \cos^{10} x dx$

16. $\int_0^{\pi} \sin^5 x dx$

17. $\int_{-\frac{\pi}{2}}^{\pi} \cos^7 x dx$

18. $\int_0^{3\pi} \sin^6 2x dx$

19. $\int_0^{\frac{\pi}{2}} \sin^4 \frac{x}{2} dx$

20. $\int_{\frac{\pi}{6}}^{\frac{\pi}{2}} \sin^4 x dx$

$$21. \int_0^{\frac{\pi}{6}} \sin^4 x dx$$

$$22. \int_{\frac{\pi}{6}}^{\frac{\pi}{2}} \sin^8 x dx$$

$$23. \int_{\frac{\pi}{8}}^{\frac{\pi}{2}} \sin^3 x dx$$

$$24. \int_{\frac{\pi}{4}}^{\frac{\pi}{3}} \cos^7 x dx$$

$$25. \int_{\frac{\pi}{6}}^{\frac{\pi}{4}} \sin^9 x dx$$

$$26. \int_0^{\pi} \sin^3 x dx$$

$$27. \int_{-\frac{\pi}{4}}^{\pi} \sin^{\frac{4}{3}} x dx$$

$$28. \int_0^{3\pi} \cos^{\frac{3}{2}} x dx$$

$$29. \int_{\frac{\pi}{2}}^{2\pi} \sin^{\frac{4}{9}} x dx$$

$$30. \int_{\frac{\pi}{4}}^{\pi} \cos^{\frac{1}{2}} x dx$$

13. Вычислить определённый интеграл

$$1. \int_2^3 \frac{\sqrt{3+2\sqrt{x}}}{x^4} dx$$

$$2. \int_3^4 \frac{\sqrt{3-\sqrt{x}}}{2x^3} dx$$

$$3. \int_{-3}^4 \frac{\sqrt{3+2\sqrt{x}}}{6x^3} dx$$

$$4. \int_0^6 \frac{\sqrt{7+\sqrt{x}}}{x^3} dx$$

$$5. \int_1^3 \frac{\sqrt{4-3\sqrt{x}}}{x^3} dx$$

$$6. \int_2^6 \frac{\sqrt{1-5\sqrt{x}}}{x^3} dx$$

$$7. \int_2^5 \frac{\sqrt{1-\sqrt{x}}}{x^3} dx$$

$$8. \int_3^5 \frac{\sqrt{9-5\sqrt{x}}}{x^3} dx$$

$$9. \int_3^4 \frac{\sqrt{-1-6\sqrt{x}}}{x^3} dx$$

$$10. \int_0^2 \frac{\sqrt{5+2\sqrt{x}}}{x^3} dx$$

$$11. \int_{-2}^6 \frac{\sqrt{7+\sqrt{x}}}{x^3} dx$$

$$12. \int_1^4 \frac{\sqrt{2+\sqrt{x}}}{x^3} dx$$

$$13. \int_{1.5}^2 \frac{\sqrt{1+\sqrt{x}}}{x^3} dx$$

$$14. \int_{-2}^2 \frac{\sqrt{4-9\sqrt{x}}}{x^3} dx$$

$$15. \int_{-1}^3 \frac{\sqrt{7-\sqrt{x}}}{x^3} dx$$

$$16. \int_1^5 \frac{-\sqrt{3-3\sqrt{x}}}{x^3} dx$$

$$17. \int_0^1 \frac{\sqrt{\sqrt{x}-3}}{x^3} dx$$

$$18. \int_7^8 \frac{\sqrt{5\sqrt{x}-6}}{x^3} dx$$

$$19. \int_{2.5}^4 \frac{\sqrt{2\sqrt{x}-1}}{x^3} dx$$

$$20. \int_{-3}^{4.5} \frac{\sqrt{12+5\sqrt{x}}}{x^3} dx$$

$$21. \int_{3.5}^{4.5} \frac{\sqrt{7\sqrt{x}-2}}{x^3} dx$$

$$22. \int_2^6 \frac{\sqrt{5-11\sqrt{x}}}{8x^3} dx$$

$$23. \int_0^3 \frac{\sqrt{5+\sqrt{x}}}{x^3} dx$$

$$24. \int_{-2}^3 \frac{\sqrt{13+\sqrt{x}}}{x^3} dx$$

$$25. \int_{-3}^3 \frac{\sqrt{-11+\sqrt{x}}}{x^4} dx$$

$$26. \int_6^7 \frac{\sqrt{14+\sqrt{x}}}{x^3} dx$$

$$27. \int_9^{10} \frac{\sqrt{\sqrt{x}-12}}{x^3} dx$$

$$28. \int_{-4}^3 \frac{\sqrt{13\sqrt{x}-1}}{x^3} dx$$

$$29. \int_{-6}^6 \frac{\sqrt{8+6\sqrt{x}}}{x^3} dx$$

$$30. \int_3^4 \frac{\sqrt{1+\sqrt{x}}}{x^3} dx$$

14. Вычислить определённый интеграл

$$1. \int_{\pi/4}^{\pi/2} \frac{dx}{(\operatorname{ctg} x + 3) \sin 3x}$$

$$2. \int_{\pi/3}^{\pi/2} \frac{dx}{(\operatorname{tg} x - 4) \sin x}$$

$$3. \int_{\pi/6}^{\pi/4} \frac{dx}{(\operatorname{ctg} 2x + 5) \cos 2x}$$

$$4. \int_{\pi/4}^{\pi/2} \frac{dx}{(\operatorname{tg} x - 6) \sin 4x}$$

$$5. \int_{\pi/8}^{\pi/3} \frac{dx}{(\operatorname{tg} x - 8) \sin 4x}$$

$$6. \int_{-\pi/4}^{\pi/3} \frac{dx}{(\operatorname{ctg} 2x - 9) \sin 4x}$$

$$7. \int_{-\pi/2}^{\pi/3} \frac{dx}{(\operatorname{ctg} x + 3) \cos 4x}$$

$$8. \int_{\pi/4}^{\pi/2} \frac{dx}{(\operatorname{tg} x + 6) \cos 2x}$$

$$9. \int_{\pi/8}^{\pi/3} \frac{dx}{(\operatorname{ctg} x - 8) \cos 4x}$$

$$10. \int_{-\pi/6}^{\pi/3} \frac{dx}{(3 \operatorname{tg} x + 4) \cos 3x}$$

$$11. \int_{\pi/8}^{\pi/3} \frac{dx}{(2 \operatorname{ctg} x + 3) \sin 2x}$$

$$12. \int_{\pi/4}^{4\pi/3} \frac{dx}{(4 - 5 \operatorname{tg} x) \sin 2x}$$

$$13. \int_{-\pi/4}^{\pi/2} \frac{dx}{(5 - 7 \operatorname{tg} x) \cos x}$$

$$14. \int_{-\pi/2}^{\pi/3} \frac{dx}{(\operatorname{tg} x - 11) \sin 4x}$$

$$15. \int_{-3\pi/4}^{\pi/3} \frac{dx}{(\operatorname{ctg} 2x + 6) \cos 2x}$$

$$16. \int_{\pi/4}^{2\pi/3} \frac{dx}{(4 - \operatorname{ctg} 2x) \sin 4x}$$

$$17. \int_{\pi/8}^{\pi/3} \frac{dx}{(\operatorname{tg} x - 16) \cos 8x}$$

$$18. \int_{\pi/8}^{2\pi/3} \frac{dx}{(\operatorname{ctg} x - 14) \sin x}$$

$$19. \int_{-3\pi/4}^{\pi/6} \frac{dx}{(\operatorname{ctg} x + 13) \sin 3x}$$

$$20. \int_{\pi/6}^{\pi/3} \frac{dx}{(\operatorname{tg} 2x + 12) \cos 2x}$$

$$21. \int_{\pi/8}^{\pi/3} \frac{dx}{(9 - 2 \operatorname{tg} x) \sin x}$$

$$22. \int_{-\pi/4}^{2\pi/3} \frac{dx}{(5 \operatorname{tg} x - 3) \cos 4x}$$

$$23. \int_{\pi/4}^{4\pi/3} \frac{dx}{(5 \operatorname{tg} x - 12) \sin 2x}$$

$$24. \int_{-\pi/8}^{\pi/3} \frac{dx}{(8 \operatorname{tg} x - 14) \sin 4x}$$

$$25. \int_{-3\pi/4}^{\pi/6} \frac{dx}{(7 \operatorname{ctg} x + 4) \sin 6x}$$

$$26. \int_{\pi/8}^{\pi/2} \frac{dx}{(\sqrt{2} \operatorname{ctg} x + 4) \sin 2x}$$

$$27. \int_{\pi/6}^{\pi/3} \frac{dx}{(6 \operatorname{tg} 2x - 11) \sin 2x}$$

$$28. \int_{-\pi/4}^{3\pi/4} \frac{dx}{(3 \operatorname{ctg} x - 2) \sin 4x}$$

$$29. \int_{-\pi/4}^{2\pi/3} \frac{dx}{(7 \operatorname{tg} x - 11) \sin 3x}$$

$$30. \int_{\pi/4}^{\pi/3} \frac{dx}{(\operatorname{tg} x + 4) \sin 2x}$$

15. Вычислить несобственный интеграл (или установить его расходимость).

$$1. \int_{-\infty}^{+\infty} \frac{2x dx}{x^2 + 1}$$

$$2. \int_2^{+\infty} \frac{\ln 2x dx}{x}$$

$$3. \int_2^{+\infty} \frac{dx}{(x+2)x^2}$$

$$4. \int_0^{+\infty} \frac{xdx}{(1+x)^3}$$

$$5. \int_2^{+\infty} \frac{dx}{x\sqrt{x^2-1}}$$

$$6. \int_2^{+\infty} \frac{dx}{x\sqrt{x^2+1}}$$

$$7. \int_0^{+\infty} x e^{-x^2} dx$$

$$8. \int_0^{+\infty} x^3 e^{-x^2} dx$$

$$9. \int_1^{+\infty} \frac{xdx}{(2+x)^3}$$

$$10. \int_0^{+\infty} x \sin x dx$$

$$11. \int_{-\infty}^{+\infty} \frac{dx}{x^2 + 4x + 1}$$

$$12. \int_0^{+\infty} e^{-\sqrt{x}} dx$$

13. $\int_0^{+\infty} e^{-x} \sin x dx$

14. $\int_0^{+\infty} \frac{dx}{1+x^3}$

15. $\int_1^{+\infty} \frac{\arctg x dx}{x^2}$

16. $\int_0^{+\infty} x \cos x dx$

17. $\int_{-\infty}^{+\infty} \frac{3x^2 dx}{x^3 + 1}$

18. $\int_{-\infty}^{+\infty} \frac{dx}{x^2 + 6x + 1}$

19. $\int_{-\infty}^{+\infty} \frac{dx}{(x^2 + 1)^2}$

20. $\int_{-\infty}^{+\infty} \frac{x^2 dx}{x^3 + 1}$

21. $\int_2^{+\infty} \frac{\ln 3x dx}{3x}$

22. $\int_0^{+\infty} e^{2x} dx$

23. $\int_0^{+\infty} e^{-x} \sin x dx$

24. $\int_0^{+\infty} e^{-x} \cos x dx$

25. $\int_{-\infty}^{+\infty} \frac{dx}{x^2 - 8x + 1}$

26. $\int_1^{+\infty} \frac{\arctg 2x dx}{x^2}$

27. $\int_0^{+\infty} x \cos 2x dx$

28. $\int_{-\infty}^{+\infty} \frac{dx}{x^2 + 6x - 1}$

29. $\int_{-\infty}^{+\infty} \frac{dx}{x^2 - 6x - 1}$

30. $\int_3^{+\infty} \frac{dx}{(x+3)x^2}$

16. Вычислить несобственный интеграл (или установить его расходимость).

1. $\int_0^1 \frac{dx}{\sqrt{1-x^2}}$

2. $\int_0^2 \frac{dx}{x^2 - 4x + 3}$

3.
$$\int_1^2 \frac{xdx}{\sqrt{x-1}}$$

4.
$$\int_0^1 x \ln x dx$$

5.
$$\int_a^b \frac{dx}{\sqrt{(x-a)(b-x)}} \quad (a < b)$$

6.
$$\int_1^e \frac{dx}{x\sqrt{\ln x}}$$

7.
$$\int_3^5 \frac{x^2 dx}{\sqrt{(x-3)(5-x)}}$$

8.
$$\int_{-1}^1 \frac{dx}{(2-x)\sqrt{1-x^2}}$$

9.
$$\int_0^1 \frac{\sqrt{x} dx}{\sqrt{1-x^4}}$$

10.
$$\int_0^1 \frac{x^2 dx}{\sqrt[3]{(1-x^2)^5}}$$

11.
$$\int_3^2 \frac{xdx}{\sqrt{x-3}}$$

12.
$$\int_0^1 x \ln 2x dx$$

13.
$$\int_1^5 \frac{x^2 dx}{\sqrt{(x-1)(5-x)}}$$

14.
$$\int_{-1}^1 \frac{dx}{(3-x)\sqrt{1-x^2}}$$

15.
$$\int_0^2 \frac{\sqrt{x} dx}{\sqrt{4-x^4}}$$

16.
$$\int_4^2 \frac{xdx}{\sqrt{x-4}}$$

17.
$$\int_3^6 \frac{dx}{\sqrt{(x-3)(6-x)}}$$

18.
$$\int_1^e \frac{dx}{2\sqrt{\ln x}}$$

19.
$$\int_2^5 \frac{x^2 dx}{\sqrt{(x-2)(5-x)}}$$

20.
$$\int_{-2}^2 \frac{dx}{(3-x)\sqrt{4-x^2}}$$

21.
$$\int_{-1}^1 \frac{dx}{(9-x)\sqrt{1-x^2}}$$

22.
$$\int_1^e \frac{dx}{x\sqrt{\ln 2x}}$$

23.
$$\int_2^4 \frac{\sqrt{x} dx}{\sqrt{16-x^4}}$$

24.
$$\int_5^6 \frac{xdx}{\sqrt{x-5}}$$

25.
$$\int_{-3}^3 \frac{dx}{(3-x)\sqrt{9-x^2}}$$

26.
$$\int_2^6 \frac{xdx}{\sqrt{x-2}}$$

27.
$$\int_2^5 \frac{x^2 dx}{\sqrt{(x-2)(5-x)}}$$

28.
$$\int_1^3 \frac{x^2 dx}{\sqrt{(x-1)(3-x)}}$$

29.
$$\int_{-2}^2 \frac{dx}{(3-x)\sqrt{4-x^2}}$$

30.
$$\int_{-2}^1 \frac{dx}{(2-x)\sqrt{4-x^2}}$$

17. Вычислить площадь фигуры, ограниченной графиками функций

1. $y = (x+5)^2, \quad y = 3x-5$

2. $y = (x-5)^2, \quad y = x+5$

3. $y = (2x-7)^2, \quad y = x-5$

4. $y = (x-2)^2, \quad y = 5x-1$

5. $y = (x+5)^2, \quad y = x+5$

6. $y = (x+3)^2, \quad y = x-3$

7. $y = (2x-5)^2, \quad y = 2x-5$

8. $y = (x-8)^2, \quad y = x-1$

9. $y = (3x-5)^2, \quad y = 3x+5$

10. $y = (x+15)^2, \quad y = x-15$

11. $y = (2x-5)^2, \quad y = 5x-15$

12. $y = (2x+3)^2, \quad y = 3x-1$

13. $y = (x-3)^2, \quad y = x+5$

14. $y = (6x-5)^2, \quad y = 7x+15$

15. $y = (x-7)^2, \quad y = 2x+11$

16. $y = (5x-1)^2, \quad y = x+5$

17. $y = (7x-5)^2, \quad y = x+7$

18. $y = (6x-5)^2, \quad y = x-1$

19. $y = (8x-5)^2, \quad y = 3x-1$

20. $y = (x-7)^2, \quad y = 3x+5$

21. $y = (x+5)^2, \quad y = x+15$

22. $y = (x-5)^2, \quad y = 3x+11$

23. $y = (x - 15)^2, \quad y = 3x + 10$

24. $y = (3x + 5)^2, \quad y = x - 13$

25. $y = (7x + 15)^2, \quad y = 2x - 5$

26. $y = (2x - 5)^2, \quad y = x - 1$

27. $y = (x + 2)^2, \quad y = 3x - 1$

28. $y = (x + 14)^2, \quad y = 3x - 7$

29. $y = (5x - 3)^2, \quad y = 3x + 15$

30. $y = (7x - 15)^2, \quad y = 3x + 1$

18. Вычислить площадь фигуры, ограниченной графиками функций, заданных параметрически

1.
$$\begin{cases} x = 4(t - \sin t) \\ y = 4(1 - \cos t) \end{cases}$$

2.
$$\begin{cases} x = 6(t - \sin t) \\ y = 4(1 + \cos t) \end{cases}$$

3.
$$\begin{cases} x = 4(1 - \sin t) \\ y = \frac{4}{5}(t - \cos t) \end{cases}$$

4.
$$\begin{cases} x = 5(t + \sin t) \\ y = 7(1 - \cos t) \end{cases}$$

5.
$$\begin{cases} x = \frac{1}{3}(t - \sin t) \\ y = 4(1 + \cos t) \end{cases}$$

6.
$$\begin{cases} x = 9(t + \sin t) \\ y = 4\left(1 - \frac{1}{2}\cos t\right) \end{cases}$$

7.
$$\begin{cases} x = 4(t - 2\sin t) \\ y = 7(1 + \cos t) \end{cases}$$

8.
$$\begin{cases} x = 8(t + \sin t) \\ y = 4(1 + \cos t) \end{cases}$$

9.
$$\begin{cases} x = 5(t - 2\sin t) \\ y = 4(1 + \cos t) \end{cases}$$

10.
$$\begin{cases} x = 4(1 + \sin t) \\ y = 2(t - \cos t) \end{cases}$$

11.
$$\begin{cases} x = 4(t + \sin t) \\ y = 5(1 - 2\cos t) \end{cases}$$

12.
$$\begin{cases} x = 4(t - 2\sin t) \\ y = 3(1 + \cos t) \end{cases}$$

$$13. \begin{cases} x = 5(t + 2\sin t) \\ y = 4(1 - \cos t) \end{cases}$$

$$14. \begin{cases} x = 4(t - \sin t) \\ y = 7\left(\frac{1}{2} + \cos t\right) \end{cases}$$

$$15. \begin{cases} x = 3(t - \sin t) \\ y = 4(1 + 4\cos t) \end{cases}$$

$$16. \begin{cases} x = \frac{1}{2}(t - 2\sin t) \\ y = 4(1 + \cos t) \end{cases}$$

$$17. \begin{cases} x = 4(t - 2\sin t) \\ y = \frac{1}{2}(1 + \cos t) \end{cases}$$

$$18. \begin{cases} x = 3(1 + \sin t) \\ y = \frac{1}{2}(t - \cos t) \end{cases}$$

$$19. \begin{cases} x = 4(t + \sin t) \\ y = 2(1 + \cos t) \end{cases}$$

$$20. \begin{cases} x = 3(t - 3\sin t) \\ y = 4(1 + \cos t) \end{cases}$$

$$21. \begin{cases} x = 4(t + \sin t) \\ y = 3\left(1 - \frac{1}{2}\cos t\right) \end{cases}$$

$$22. \begin{cases} x = \frac{3}{2}(1 + \sin t) \\ y = 4(t - \cos t) \end{cases}$$

$$23. \begin{cases} x = 4(t + \sin t) \\ y = 3(1 - 2\cos t) \end{cases}$$

$$24. \begin{cases} x = \frac{1}{3}(t - 2\sin t) \\ y = 4(1 + \cos t) \end{cases}$$

$$25. \begin{cases} x = 2(t + \sin t) \\ y = 3(1 - \cos t) \end{cases}$$

$$26. \begin{cases} x = 5(t - \sin t) \\ y = 8(1 + \cos t) \end{cases}$$

$$27. \begin{cases} x = 4(1 - 2\sin t) \\ y = 4(t + \cos t) \end{cases}$$

$$28. \begin{cases} x = 3(t - \sin t) \\ y = 7(1 + \cos t) \end{cases}$$

$$29. \begin{cases} x = 8(t + 2\sin t) \\ y = 4(1 - \cos t) \end{cases}$$

$$30. \begin{cases} x = \frac{9}{2}(t - \sin t) \\ y = 2(1 - 2\cos t) \end{cases}$$

19. Вычислить площадь фигуры, ограниченной линиями, заданными уравнениями в полярных координатах

1. $r = \frac{1}{3} \cos 3\varphi$

2. $r = \cos \frac{1}{2}\varphi$

3. $r = \sin 3\varphi$

4. $r = -\sin 2\varphi$

5. $r = -\cos 3\varphi$

6. $r = \cos 4\varphi$

7. $r = \frac{1}{2} \sin(-3\varphi)$

8. $r = 2 \sin \frac{3}{4}\varphi$

9. $r = 2 \cos 5\varphi$

10. $r = -3 \cos \varphi$

11. $r = \pi \sin 3\varphi$

12. $r = 4 \sin \varphi$

13. $r = \cos 4\varphi$

14. $r = -\sqrt{\pi} \cos 3\varphi$

15. $r = 7 \sin 2\varphi$

16. $r = 2 \sin 7\varphi$

17. $r = 3 \cos 6\varphi$

18. $r = -2 \cos 8\varphi$

19. $r = \frac{1}{4} \cos 5\varphi$

20. $r = \frac{1}{2} \cos 7\varphi$

21. $r = 4 \sin 3\varphi$

22. $r = 3 \sin 5\varphi$

23. $r = -2 \cos 4\varphi$

24. $r = 6 \cos 3\varphi$

25. $r = -3 \sin 7\varphi$

26. $r = 2 \sin 9\varphi$

27. $r = 5 \cos 6\varphi$

28. $r = 6 \cos 8\varphi$

29. $r = -3 \sin 7\varphi$

30. $r = \sin 8\varphi$

20. Вычислить длину дуги кривой, заданной уравнением в прямоугольной системе координат

1. $y = 2\ln 3x, \quad \sqrt{6} \leq x \leq \sqrt{7}$
2. $y = -5\ln 3x, \quad \sqrt{2} \leq x \leq \sqrt{4}$
3. $y = \ln 5x, \quad \sqrt{2} \leq x \leq \sqrt{7}$
4. $y = 9\ln 2x, \quad \sqrt{7} \leq x \leq \sqrt{9}$
5. $y = -12\ln 5x, \quad \sqrt{8} \leq x \leq \sqrt{9}$
6. $y = 10\ln 7x, \quad \sqrt{4} \leq x \leq \sqrt{10}$
7. $y = 11\ln 5x, \quad \sqrt{2} \leq x \leq \sqrt{3}$
8. $y = 6\ln 12x, \quad \sqrt{4} \leq x \leq \sqrt{8}$
9. $y = 3\ln x, \quad \sqrt{8} \leq x \leq \sqrt{9}$
10. $y = -12\ln 10x, \quad \sqrt{14} \leq x \leq \sqrt{16}$
11. $y = -3\ln 8x, \quad \sqrt{5} \leq x \leq \sqrt{9}$
12. $y = -8\ln 7x, \quad \sqrt{3} \leq x \leq \sqrt{9}$
13. $y = 2\ln 15x, \quad \sqrt{10} \leq x \leq \sqrt{13}$
14. $y = -14\ln 5x, \quad \sqrt{8} \leq x \leq \sqrt{12}$
15. $y = -7\ln 2x, \quad \sqrt{10} \leq x \leq \sqrt{13}$
16. $y = 9\ln 10x, \quad \sqrt{1} \leq x \leq \sqrt{3}$
17. $y = 8\ln x, \quad \sqrt{15} \leq x \leq \sqrt{17}$
18. $y = -3\ln 14x, \quad \sqrt{24} \leq x \leq \sqrt{26}$
19. $y = -2\ln 5x, \quad \sqrt{14} \leq x \leq \sqrt{19}$
20. $y = -4\ln 10x, \quad \sqrt{7} \leq x \leq \sqrt{8}$
21. $y = 9\ln 3x, \quad \sqrt{2} \leq x \leq \sqrt{3}$
22. $y = 8\ln x, \quad \sqrt{9} \leq x \leq \sqrt{11}$
23. $y = -2\ln 7x, \quad \sqrt{13} \leq x \leq \sqrt{15}$
24. $y = -7\ln 2x, \quad \sqrt{5} \leq x \leq \sqrt{7}$
25. $y = -3\ln 5x, \quad \sqrt{9} \leq x \leq \sqrt{17}$
26. $y = -17\ln 2x, \quad \sqrt{16} \leq x \leq \sqrt{20}$
27. $y = -4\ln 15x, \quad \sqrt{20} \leq x \leq \sqrt{21}$
28. $y = -9\ln 10x, \quad \sqrt{6} \leq x \leq \sqrt{10}$
29. $y = 3\ln 4x, \quad \sqrt{4} \leq x \leq \sqrt{6}$
30. $y = -13\ln 24x, \quad \sqrt{21} \leq x \leq \sqrt{25}$

21. Вычислить длину дуги кривой, заданной параметрически

$$1. \begin{cases} x = \frac{1}{3}(t - \sin t) \\ y = 4(1 + \cos t) \end{cases}$$

$$2. \begin{cases} x = 8(t + \sin t) \\ y = 4(1 + \cos t) \end{cases}$$

$$3. \begin{cases} x = 9(t + \sin t) \\ y = 4\left(1 - \frac{1}{2}\cos t\right) \end{cases}$$

$$4. \begin{cases} x = 5(t + \sin t) \\ y = 7(1 - \cos t) \end{cases}$$

$$5. \begin{cases} x = 4(t - \sin t) \\ y = 4(1 - \cos t) \end{cases}$$

$$6. \begin{cases} x = 4(1 - \sin t) \\ y = \frac{4}{5}(t - \cos t) \end{cases}$$

$$7. \begin{cases} x = 4(t - 2\sin t) \\ y = 7(1 + \cos t) \end{cases}$$

$$8. \begin{cases} x = 6(t - \sin t) \\ y = 4(1 + \cos t) \end{cases}$$

$$9. \begin{cases} x = 4(t - \sin t) \\ y = 7\left(\frac{1}{2} + \cos t\right) \end{cases}$$

$$10. \begin{cases} x = 5(t + 2\sin t) \\ y = 4(1 - \cos t) \end{cases}$$

$$11. \begin{cases} x = 4(t + \sin t) \\ y = 5(1 - 2\cos t) \end{cases}$$

$$12. \begin{cases} x = 4(t - 2\sin t) \\ y = 3(1 + \cos t) \end{cases}$$

$$13. \begin{cases} x = 4(1 + \sin t) \\ y = 2(t - \cos t) \end{cases}$$

$$14. \begin{cases} x = 5(t - 2\sin t) \\ y = 4(1 + \cos t) \end{cases}$$

$$15. \begin{cases} x = 4(t - 2\sin t) \\ y = \frac{1}{2}(1 + \cos t) \end{cases}$$

$$16. \begin{cases} x = 3(1 + \sin t) \\ y = \frac{1}{2}(t - \cos t) \end{cases}$$

$$17. \begin{cases} x = 3(t - \sin t) \\ y = 4(1 + 4\cos t) \end{cases}$$

$$18. \begin{cases} x = 3(t - 3\sin t) \\ y = 4(1 + \cos t) \end{cases}$$

$$19. \begin{cases} x = 4(t + \sin t) \\ y = 3\left(1 - \frac{1}{2}\cos t\right) \end{cases}$$

$$20. \begin{cases} x = \frac{1}{2}(t - 2\sin t) \\ y = 4(1 + \cos t) \end{cases}$$

$$21. \begin{cases} x = 4(t + \sin t) \\ y = 2(1 + \cos t) \end{cases}$$

$$22. \begin{cases} x = 1\frac{1}{2}(1 + \sin t) \\ y = 4(t - \cos t) \end{cases}$$

$$23. \begin{cases} x = \frac{1}{3}(t - 2 \sin t) \\ y = 4(1 + \cos t) \end{cases}$$

$$24. \begin{cases} x = 4(t + \sin t) \\ y = \frac{13}{2}(1 - 2 \cos t) \end{cases}$$

$$25. \begin{cases} x = 3(t - \sin t) \\ y = 7(1 + \cos t) \end{cases}$$

$$26. \begin{cases} x = 8(t + 2 \sin t) \\ y = 4(1 - \cos t) \end{cases}$$

$$27. \begin{cases} x = 4(1 - 2 \sin t) \\ y = 4(t + \cos t) \end{cases}$$

$$28. \begin{cases} x = \frac{9}{2}(t - \sin t) \\ y = 2(1 - 2 \cos t) \end{cases}$$

$$29. \begin{cases} x = 5(t - \sin t) \\ y = 8(1 + \cos t) \end{cases}$$

$$30. \begin{cases} x = 2(t + \sin t) \\ y = 3(1 - \cos t) \end{cases}$$

22. Вычислить длину дуги кривой, заданной уравнениями в полярных координатах

$$1. r = 5e^{2\varphi/5}, \quad -\pi/4 \leq \varphi \leq \pi/4$$

$$2. r = e^{2\varphi/5}, \quad -\pi/3 \leq \varphi \leq \pi/4$$

$$3. r = 5e^{2\varphi/4}, \quad -\pi/4 \leq \varphi \leq \pi/2$$

$$4. r = 2e^{\varphi/5}, \quad -\pi/2 \leq \varphi \leq \pi/4$$

$$5. r = 4e^{3\varphi/5}, \quad \pi/4 \leq \varphi \leq \pi/2$$

$$6. r = 5e^{2\varphi/7}, \quad -\pi/3 \leq \varphi \leq \pi/3$$

$$7. r = 6e^{4\varphi/5}, \quad -\pi/2 \leq \varphi \leq \pi/2$$

$$8. r = 6e^{2\varphi/3}, \quad -\pi/4 \leq \varphi \leq \pi/3$$

$$9. r = 7e^{\varphi/5}, \quad -\pi/4 \leq \varphi \leq \pi/4$$

$$10. r = 5e^{2\varphi/5}, \quad -\pi/3 \leq \varphi \leq \pi$$

$$11. r = 3e^{2\varphi/4}, \quad -\pi/6 \leq \varphi \leq \pi/2$$

$$12. r = e^{2\varphi/7}, \quad -\pi/4 \leq \varphi \leq \pi/4$$

$$13. r = 5e^{\varphi/2}, \quad \pi/4 \leq \varphi \leq \pi/3$$

$$14. r = 3e^{\varphi/3}, \quad -\pi/4 \leq \varphi \leq \pi/4$$

$$15. r = 2e^{3\varphi/5}, \quad -\pi/4 \leq \varphi \leq \pi/3$$

$$16. r = 4e^{2\varphi/3}, \quad -\pi/4 \leq \varphi \leq \pi/4$$

$$17. r = 5e^{\varphi/2}, \quad -\pi/2 \leq \varphi \leq \pi/2$$

$$18. r = 4e^{2\varphi/7}, \quad 0 \leq \varphi \leq \pi/2$$

19. $r = 5e^{3\varphi/5}$, $-\pi/4 \leq \varphi \leq 0$

20. $r = 8e^{4\varphi/5}$, $-\pi/4 \leq \varphi \leq \pi/4$

21. $r = 7e^{3\varphi/5}$, $0 \leq \varphi \leq \pi/2$

22. $r = 6e^{\varphi/5}$, $-\pi/4 \leq \varphi \leq \pi/4$

23. $r = 4e^{3\varphi/4}$, $-\pi/4 \leq \varphi \leq 0$

24. $r = 3e^{4\varphi/7}$, $-\pi/4 \leq \varphi \leq \pi/4$

25. $r = 4e^{3\varphi/5}$, $-\pi/4 \leq \varphi \leq \pi/4$

26. $r = 2e^{3\varphi/4}$, $-\pi/4 \leq \varphi \leq \pi/4$

27. $r = 5e^{2\varphi/7}$, $-\pi/4 \leq \varphi \leq \pi/4$

28. $r = 5e^{\varphi/2}$, $-\pi/3 \leq \varphi \leq \pi/3$

29. $r = e^{2\varphi/7}$, $-\pi/4 \leq \varphi \leq \pi/3$

30. $r = 3e^{2\varphi/5}$, $-\pi/3 \leq \varphi \leq \pi/2$

23. Вычислить объёмы тел, образованных вращением фигур, ограниченных графиками функций относительно оси абсцисс

1. $y = \sin x$, $0 \leq x \leq \pi$

2. $y = x^2 + 1$, $y = -x^2 + 3$

3. $y = \cos x$, $0 \leq x \leq \pi$

4. $y = x^2 + 2$, $y = -x^2 + 3$

5. $y = \sin x$, $-\pi \leq x \leq \pi$

6. $y = -x^2 + 3$, $y = 3x^2 - 2$

7. $y = \cos x$, $0 \leq x \leq \pi$

8. $y = -x^2 - 3$, $y = 2x^2 - 5$

9. $y = \sin 2x$, $-\frac{\pi}{2} \leq x \leq \pi$

10. $y = 2x^2 - 1$, $y = -x^2 + 8$

11. $y = \sin x$, $-\pi \leq x \leq 0$

12. $y = 2x^2 - 5$, $y = -2x^2 + 5$

13. $y = \sin x$, $0 \leq x \leq \frac{\pi}{2}$

14. $y = e^x$, $y = -x^2 + 3$,

15. $y = \sin 2x$, $0 \leq x \leq \frac{\pi}{2}$

16. $y = e^{2x}$, $y = -x^2 + 8$

17. $y = \sin x$, $0 \leq x \leq \pi$

18. $y = 3^{2x}$, $y = -x^2 + 4$,

19. $y = \sin x, 0 \leq x \leq \frac{\pi}{2}$

20. $y = e^{3x}, y = -2x^2 + 9,$

21. $y = \cos x, 0 \leq x \leq \pi$

22. $y = 2^x - 1, y = -x^2 + 2$

23. $y = \sin x, 0 \leq x \leq \pi$

24. $y = 3^x + 1, y = -x^2 + 8,$

25. $y = \cos x, 0 \leq x \leq \pi$

26. $y = e^x, y = -x^2 + 8$

27. $y = \sin x, 0 \leq x \leq \pi$

28. $y = 2^x, y = -2x^2 + 7,$

29. $y = \sin x, 0 \leq x \leq \frac{\pi}{2}$

30. $y = 5^x - 2, y = -x^2 + 3$

24. Вычислить площади поверхностей, образованных вращением фигур, ограниченных графиками функций относительно оси абсцисс

1. $y = \sin x, y = \sin 3x, 0 \leq x \leq \pi$

2. $y = x^2 + 1, y = -5x^2 + 6$

3. $y = \cos x, y = \cos 3x, 0 \leq x \leq \pi$

4. $y = x^2 + 2, y = -x^2 + 8$

5. $y = \sin x, y = \cos 2x, -\pi \leq x \leq \pi$

6. $y = -x^2 + 3, y = 3x^2 - 2$

7. $y = \cos x, y = \sin 3x, 0 \leq x \leq \pi$

8. $y = -x^2 - 3, y = x^2 - 6$

9. $y = \sin 2x, y = \cos 3x, -\frac{\pi}{2} \leq x \leq \pi$

10. $y = 2x^2 - 1, y = -x^2 + 8$

11. $y = \sin x, y = \cos x, -\pi \leq x \leq 0$

12. $y = 2x^2 - 5, y = -2x^2 + 5$

13. $y = \sin x, y = \cos 3x, 0 \leq x \leq \frac{\pi}{2}$

14. $y = e^x, y = -x^2 + 3,$

15. $y = \sin 2x, y = \cos x, 0 \leq x \leq \frac{\pi}{2}$

16. $y = e^{2x}, y = -x^2 + 8$

17. $y = \sin x, y = \cos 3x, 0 \leq x \leq \pi$

18. $y = 3^{2x}, y = -x^2 + 4,$

$$19. y = \sin x, y = \cos 3x, 0 \leq x \leq \frac{\pi}{2}$$

$$20. y = e^{3x}, y = -2x^2 + 9,$$

$$21. y = \cos x, y = \sin 3x, 0 \leq x \leq \pi$$

$$22. y = 2^x - 1, y = -x^2 + 2$$

$$23. y = \sin x, y = \sin 4x, 0 \leq x \leq \pi$$

$$24. y = 3^x + 1, y = -x^2 + 8,$$

$$25. y = \cos x, y = \sin 3x, 0 \leq x \leq \pi$$

$$26. y = e^x, y = -x^2 + 8$$

$$27. y = \sin x, y = \cos 3x, 0 \leq x \leq \pi$$

$$28. y = 2^x, y = -2x^2 + 7,$$

$$29. y = \sin x, y = \sin 2x, 0 \leq x \leq \frac{\pi}{2}$$

$$30. y = 5^x - 2, y = -x^2 + 3$$

25. Вычислить площади поверхностей, образованных вращением фигур, ограниченных графиками функций относительно оси абсцисс.

$$1. \begin{cases} x = 3(t - \sin t) \\ y = 4(1 + \cos t) \end{cases}$$

$$2. \begin{cases} x = 2(t + \sin t) \\ y = 4(1 + \cos t) \end{cases}$$

$$3. \begin{cases} x = 9(t + \sin t) \\ y = 4\left(1 - \frac{1}{2}\cos t\right) \end{cases}$$

$$4. \begin{cases} x = 5(t + \sin t) \\ y = 2(1 - \cos t) \end{cases}$$

$$5. \begin{cases} x = 4(t - \sin t) \\ y = 2(1 - \cos t) \end{cases}$$

$$6. \begin{cases} x = 2(1 - \sin t) \\ y = \frac{4}{5}(t - \cos t) \end{cases}$$

$$7. \begin{cases} x = 4(t - 2\sin t) \\ y = 2(1 + \cos t) \end{cases}$$

$$8. \begin{cases} x = 2(t - \sin t) \\ y = 3(1 + \cos t) \end{cases}$$

$$9. \begin{cases} x = 4(t - \sin t) \\ y = 7\left(\frac{1}{4} + \cos t\right) \end{cases}$$

$$10. \begin{cases} x = 5(t - 3\sin t) \\ y = 4(1 + \cos t) \end{cases}$$

$$11. \begin{cases} x = 4(t + \sin t) \\ y = 5(1 - \cos t) \end{cases}$$

$$12. \begin{cases} x = 4(t - 2 \sin t) \\ y = 3(1 + \cos t) \end{cases}$$

$$13. \begin{cases} x = 4(1 + \sin t) \\ y = 2(t - \cos t) \end{cases}$$

$$14. \begin{cases} x = 5(t - 2 \sin t) \\ y = 4(1 + \cos t) \end{cases}$$

$$15. \begin{cases} x = 4(t - 2 \sin t) \\ y = \frac{1}{2}(1 + \cos t) \end{cases}$$

$$16. \begin{cases} x = 3(1 + \sin t) \\ y = \frac{1}{2}(t - \cos t) \end{cases}$$

$$17. \begin{cases} x = 3(t - \sin t) \\ y = 4(1 + 4 \cos t) \end{cases}$$

$$18. \begin{cases} x = 3(t - 3 \sin t) \\ y = 2(1 + \cos t) \end{cases}$$

$$19. \begin{cases} x = 4(t + \sin t) \\ y = 3\left(1 - \frac{1}{2} \cos t\right) \end{cases}$$

$$20. \begin{cases} x = \frac{1}{2}(t - 3 \sin t) \\ y = 4(1 + \cos t) \end{cases}$$

$$21. \begin{cases} x = 4(t + 2 \sin t) \\ y = 2(1 + \cos t) \end{cases}$$

$$22. \begin{cases} x = 1\frac{1}{2}(1 + \sin t) \\ y = 4(t - \cos t) \end{cases}$$

$$23. \begin{cases} x = \frac{1}{3}(t - 2 \sin t) \\ y = 4(1 + \cos t) \end{cases}$$

$$24. \begin{cases} x = 4(t + \sin t) \\ y = \frac{13}{2}(1 - 2 \cos t) \end{cases}$$

$$25. \begin{cases} x = 3(t - \sin t) \\ y = 7(1 + \cos t) \end{cases}$$

$$26. \begin{cases} x = 12(t + 2 \sin t) \\ y = 4(1 - \cos t) \end{cases}$$

$$27. \begin{cases} x = 5(1 - 2 \sin t) \\ y = 4(t + \cos t) \end{cases}$$

$$28. \begin{cases} x = \frac{9}{2}(t - \sin t) \\ y = 2(1 - 2 \cos t) \end{cases}$$

$$29. \begin{cases} x = 5(t - \sin t) \\ y = 8(1 + \cos t) \end{cases}$$

$$30. \begin{cases} x = 3(t + \sin t) \\ y = 2(1 - \cos t) \end{cases}$$

Литература

1. Берман Г.Н. Сборник задач по курсу математического анализа. – М.: Наука, 1977.
2. Виноградова И.А., Олехник С.Н., Садовничий В.А. Задачи и упражнения по математическому анализу. – М.: Высшая школа, 2000.
3. Зорич В.А. Математический анализ.– М.: Наука, 1981.
4. Кудрявцев Л.Д. Курс математического анализа.– М.: Высшая школа, 1981.
5. Тер-Крикоров А.М., Шабунин М.И. Курс математического анализа. – М.: Наука, 1977.
6. Фихтенгольц Г.М. Курс дифференциального и интегрального исчисления. – М.: ФИЗМАТЛИТ, 2002.